



COMUNE DI SESTO SAN GIOVANNI

**Selezione pubblica per la copertura a tempo indeterminato
di n. 2 posti di Assistente Sociale
- Categoria D1**

PRESELETTIVA

PROVA 01

1 **La Costituzione italiana prevede che il cittadino sprovvisto dei mezzi necessari per vivere abbia diritto all'assistenza sociale?** A00001

- A** Sì, ma solo se inabile al lavoro
- B** Sì, sempre
- C** No, ma ha diritto al mantenimento

2 **La legge quadro 328 sull'assistenza sociale risale all'anno:** A00002

- A** 2000
- B** 2005
- C** 1997

3 **La professione di assistente sociale può essere esercitata:** A00003

- A** in forma di rapporto di lavoro subordinato o in forma autonoma
- B** solamente in forma di rapporto di lavoro subordinato sia nel privato sia nel pubblico
- C** esclusivamente in rapporto di lavoro pubblico

4 **In base al Codice Deontologico vigente per gli assistenti sociali, indicare quale delle seguenti affermazioni si ritiene corretta.** A00004

- A** L'assistente sociale ha facoltà di astenersi dal rendere testimonianza e non può essere obbligato a deporre su quanto gli è stato confidato o ha conosciuto nell'esercizio della professione, salvo i casi previsti dalla legge
- B** La conoscenza e il rispetto del Codice Deontologico non sono vincolanti per l'esercizio della Professione in tutte le sue forme
- C** L'assistente sociale, nell'esercizio della professione, previene e contrasta solo le forme più gravi di violenza e di discriminazione

5 **Nell'esercizio della sua professione l'assistente sociale si può trovare a svolgere il colloquio di valutazione (o di assessment), finalizzato a:** A00005

- A** raccogliere le notizie sulle situazioni, necessarie per programmare un intervento o effettuare un'indagine sociale
- B** ascoltare la persona per farsi un'idea della sua richiesta, orientandola infine ai Centri Psico-Sociali (CPS) del territorio
- C** ragionare insieme agli interessati sui cambiamenti intervenuti e sui risultati raggiunti o ancora da raggiungere

6 **Il Codice Deontologico degli Assistenti Sociali del 1 giugno 2020, al Titolo II, art. 4 recita:** A00006

- A** L'esercizio della professione si basa su fondamenti etici, sulla disciplina accademica, sulla pratica, sull'autonomia tecnico-professionale e sull'indipendenza di giudizio. L'assistente sociale non partecipa a iniziative lesive di queste dimensioni
- B** L'esercizio della professione si basa su fondamenti etici, sulla disciplina accademica, sull'autonomia tecnico-professionale e sull'indipendenza di giudizio. L'assistente sociale non partecipa a iniziative lesive di queste dimensioni
- C** L'esercizio della professione si basa su fondamenti etici e scientifici, sulla disciplina accademica, sulla pratica, sull'autonomia tecnico-professionale e sull'indipendenza di giudizio. L'assistente sociale non partecipa a iniziative lesive di queste dimensioni

7

A00007

Obiettivo di un consultorio è offrire:

- A** un servizio di assistenza e prevenzione sanitaria, psicologica e sociale all'individuo, alla coppia e alla famiglia nelle diverse fasi della vita
- B** servizi di monitoraggio, programmazione e coordinamento delle attività materno-infantili erogate dalle ASL
- C** un servizio di assistenza medica e psichiatrica a utenti con problemi di dipendenza da sostanze psicotrope

8

A00008

L'assistente sociale è tenuto/a a informare i soggetti coinvolti del proprio mandato professionale e delle sue implicazioni, anche quando l'intervento professionale si svolga in un contesto di controllo o di tutela disposto dall'Autorità Giudiziaria. Tale affermazione è da applicarsi:

- A** sempre
- B** solo nei casi in cui non comporti un danno per l'utente
- C** solo nei casi in cui non comporti un rischio per l'operatore

9

A00009

La legge 328/2000 individua alcuni soggetti che accedono prioritariamente ai servizi e alle prestazioni erogati dal sistema integrato di interventi e servizi sociali. Tra di loro però NON menziona:

- A** le lavoratrici madri non sposate
- B** i soggetti con reddito limitato
- C** i soggetti sottoposti a provvedimenti dell'autorità giudiziaria che rendono necessari interventi assistenziali

10

A00010

La povertà relativa è la condizione:

- A** di chi dispone di un reddito assai inferiore alla media della collettività o di un consumo medio assai inferiore al consumo pro-capite della popolazione
- B** di chi, oltre a non usufruire di tutte le possibilità e i servizi disponibili nel Paese, non possiede neanche il minimo necessario per la sopravvivenza
- C** legata alle necessità fisiologiche di base e prescinde dagli standard di vita prevalenti all'interno della comunità di riferimento

11

A00011

La visita domiciliare rientra tra gli strumenti di lavoro dell'assistente sociale?

- A** Sì, essa permette di avanzare riflessioni sul rapporto tra utente, familiari e ambiente sociale
- B** Sì, ma solo in combinazione con il ricorso all'équipe multidisciplinare
- C** No, non è prevista tra le tecniche dell'intervento sociale ed è sconsigliata

12

A00012

Il Reddito di Cittadinanza attualmente è:

- A** compatibile con il godimento della NASpl
- B** fruibile purché il richiedente abbia un ISEE in corso di validità fino a € 10.360,00
- C** compatibile con l'essere sottoposti a misura detentiva

- 13 **L'affidamento dei minori stranieri non accompagnati:** A00013
- A** prevede che gli Enti locali possano promuovere la sensibilizzazione e la formazione di affidatari per accoglierli
 - B** può essere disposto solo dal Tribunale per i minorenni ove vi sia il consenso manifestato dai genitori esercenti la responsabilità o dal tutore
 - C** prevede che gli enti locali possano promuovere il collocamento in comunità o in un'altra struttura di accoglienza in via prioritaria ed esclusiva rispetto all'affidamento familiare

- 14 **Tra le strutture socio-assistenziali costituite per prevenire o recuperare situazioni di disagio di un minore a rischio emarginazione, vi è la comunità educativa, ovvero una struttura di tipo:** A00014
- A** residenziale alla quale ci si rivolge in presenza di minori per i quali non è disposto un procedimento di affido, o si è in attesa di questo
 - B** residenziale utilizzata per accogliere un massimo di dieci minori dai 6 ai 18 anni, per un massimo di permanenza di 30 giorni
 - C** residenziale o semi-residenziale che ha un assetto di tipo familiare, caratterizzata dalla presenza di adulti residenti

- 15 **Un minore affidato dal Tribunale per i minorenni al Comune deve necessariamente spostare la residenza dal proprio nucleo familiare e iscriverla presso il Comune?** A00015
- A** No
 - B** Sì
 - C** Dipende dalle situazioni

- 16 **In base al d.lgs. 267/2000, i criteri generali di organizzazione del Comune sono stabiliti:** A00016
- A** dallo Statuto comunale
 - B** dalla legge statale
 - C** dalla Costituzione italiana

- 17 **Sono organi di governo del Comune:** A00017
- A** il Consiglio comunale, il Sindaco e la Giunta comunale
 - B** la Giunta comunale, il Sindaco e gli assessori
 - C** il Consiglio comunale, il Sindaco e il Segretario comunale

- 18 **Ai sensi del d.lgs. 165/2001 e s.m.i., i dipendenti delle Amministrazioni Pubbliche che svolgono attività a contatto con il pubblico, salvo specifiche eccezioni, sono tenuti a:** A00018
- A** rendere riconoscibile il proprio nome mediante l'uso di cartellini identificativi
 - B** dichiarare il proprio nominativo solo se esplicitamente richiesto dall'utente
 - C** non dichiarare mai all'utenza il proprio nome, ma a dichiarare invece il proprio codice identificativo

19 Per piastrellare una parete si dispongono 9 file da 16 piastrelle. Utilizzando lo stesso numero di piastrelle, disponendone solo 12 per fila, quante file si potrebbero formare?

- A** 12 file
- B** 10 file
- C** 14 file

20 Se tre muratori, lavorando allo stesso ritmo, impiegano 40 minuti per demolire un muro, quanto impiegherebbe uno solo di essi a demolire lo stesso muro?

- A** 2 ore
- B** 110 minuti
- C** 2 ore e mezza

21 In una scatola ci sono 3 palline rosse, 4 palline nere e 8 palline gialle. Qual è la probabilità di estrarre a caso una pallina nera o una gialla?

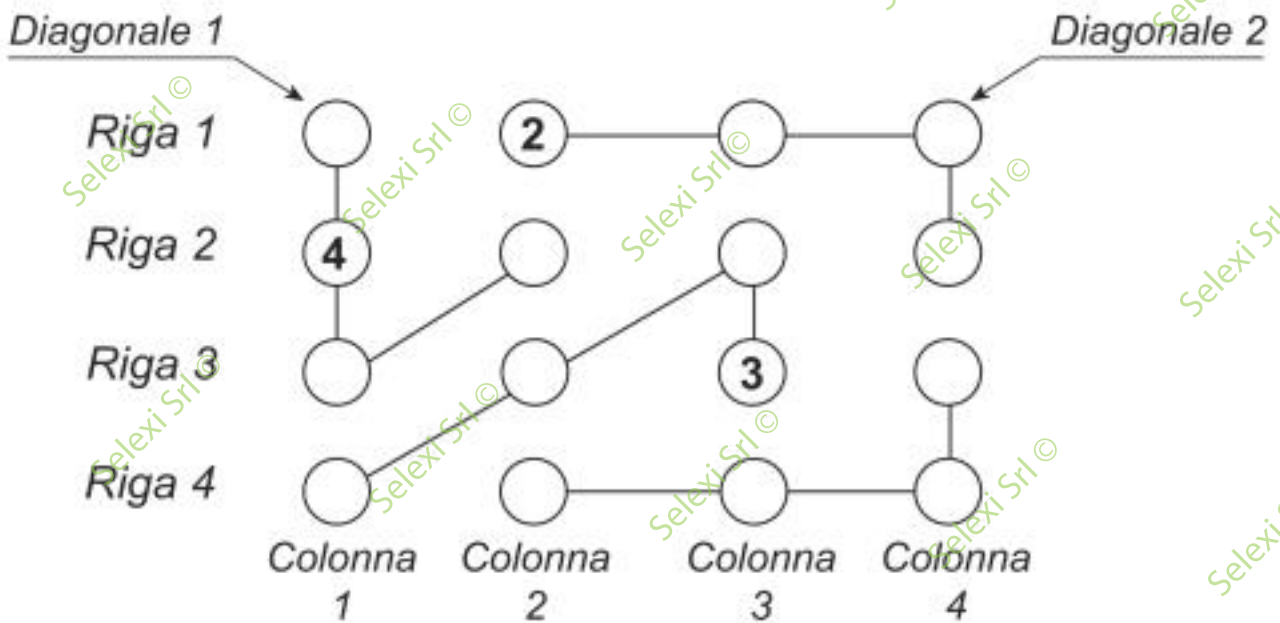
- A** 4/5
- B** 7/15
- C** 11/15

FIGURA TN 45

La griglia 4 x 4 contiene solo numeri da 1 a 4 e per essere riempita con i numeri mancanti è necessario seguire tre semplici regole:

- 1) ogni riga deve contenere tutte cifre differenti;
- 2) ogni colonna deve contenere tutte cifre differenti;
- 3) ogni "flusso" collegato dai segmenti deve contenere tutte cifre differenti.

Le diagonali invece non necessariamente devono rispettare le regole sopra esposte.

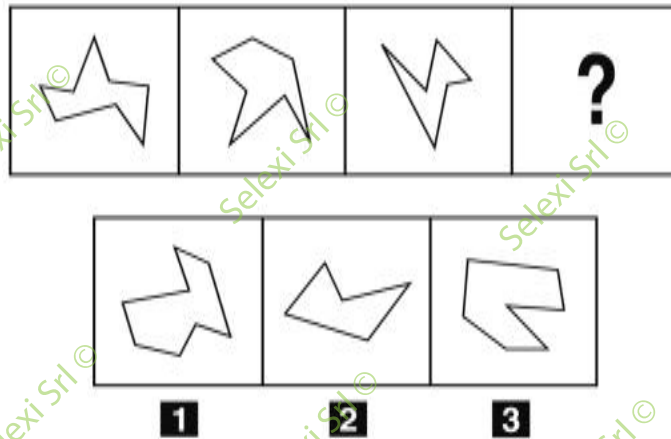


22 Rispondere al seguente quesito facendo riferimento alla FIGURA TN 45

Individuare l'alternativa che rappresenta la corretta sequenza di numeri della Riga 3, riportati da sinistra a destra.

- A** 2-4-3-1
- B** 3-4-1-2
- C** 1-3-4-2

FIGURA SN 52



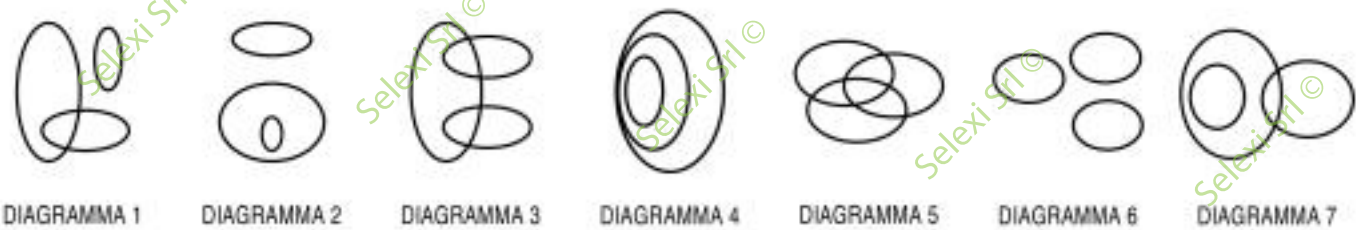
23 Rispondere al seguente quesito facendo riferimento alla FIGURA SN 52
 Individuare la figura che completa la serie.

A00023

- A** Figura 2
- B** Figura 3
- C** Figura 1

DIAGRAMMA RY 00

Individuare la relazione insiemistica esistente tra i termini dati.



24 Rispondere al seguente quesito facendo riferimento al DIAGRAMMA RY 00
 Esseri viventi, Esseri umani, Bambini

A00024

- A** Diagramma 4
- B** Diagramma 5
- C** Diagramma 3

25 "Chi vince alla lotteria è fortunato. Davide è fortunato. Chi è fortunato è ottimista". Se le precedenti affermazioni sono vere, quale delle seguenti è necessariamente vera?

A00025

- A** Davide è ottimista
- B** Chi è fortunato vince alla lotteria
- C** Davide vince alla lotteria

26 "Gianni andrà a sciare se e solo se comprerà gli occhiali da sole". In base alla precedente affermazione, quale delle seguenti è necessariamente FALSA?

A00026

- A Anche se Gianni comprerà gli occhiali da sole, potrebbe non andare a sciare
- B Se Gianni è andato a sciare allora ha comprato gli occhiali da sole
- C Se Gianni non comprerà gli occhiali da sole allora non andrà a sciare

27 Non esiste un fiore della varietà dell'anemone che sia di colore celeste. Ne segue logicamente che:

A00027

- A se un fiore è di colore celeste vuol dire che non è della varietà dell'anemone
- B tutti i fiori della varietà dell'anemone sono di colore celeste
- C tutti i fiori della varietà dell'anemone sono di colore olivina

28 Completare correttamente la seguente successione numerica: ?; ?; 38; 63; 43; 66; 48; 69

A00028

- A 33; 60
- B 58; 35
- C 60; 33

29 Completare correttamente la seguente successione, utilizzando l'alfabeto italiano: F; 6; L; 7; R; 13; V; 20; ?; ?

A00029

- A E; 33
- B L; 29
- C E; 25

30 Completare correttamente la seguente successione di lettere, utilizzando l'alfabeto italiano: D; A; U; R; ?

A00030

- A O
- B P
- C Q

