



COMUNE DI SESTO SAN GIOVANNI

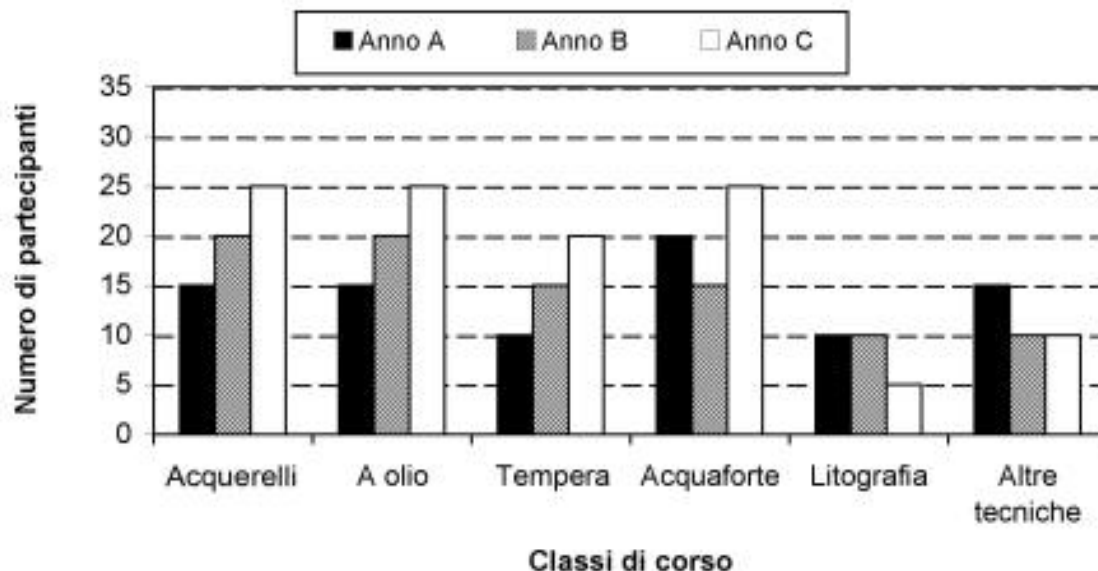
**SELEZIONE PUBBLICA PER LA COPERTURA
A TEMPO INDETERMINATO DI N°2 POSTI
DI AGENTE DI POLIZIA LOCALE - CAT. C1 -**

PROVA SCRITTA 02

- 1 **Se è vero che "non tutti i prodotti naturali fanno dimagrire", allora è vero che:** **B00001**
- A) esiste almeno un prodotto naturale che non fa dimagrire
 - B) nessun prodotto naturale fa dimagrire
 - C) i prodotti non naturali fanno dimagrire

GRAFICO SN 70

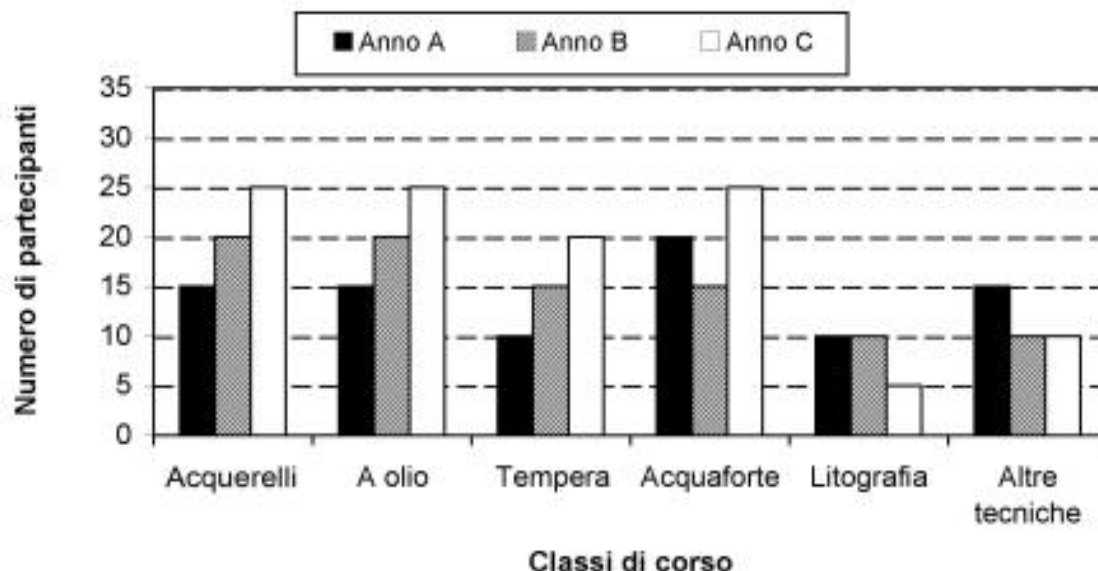
Il grafico riporta alcuni dati sui partecipanti ai corsi tenuti presso l'Accademia di Belle Arti di Brera a Milano.



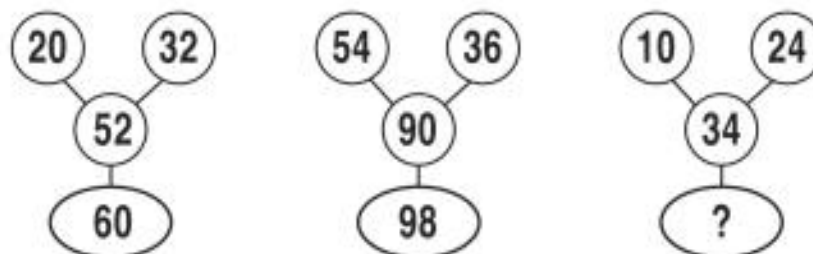
- 2 **Rispondere al seguente quesito facendo riferimento al GRAFICO SN 70** **B00002**
- Qual è stato, nell'Anno A, il numero complessivo di partecipanti ai corsi organizzati dall'Accademia di Belle Arti a Milano?**
- A) 85
 - B) 115
 - C) 150

GRAFICO SN 70

Il grafico riporta alcuni dati sui partecipanti ai corsi tenuti presso l'Accademia di Belle Arti di Brera a Milano.



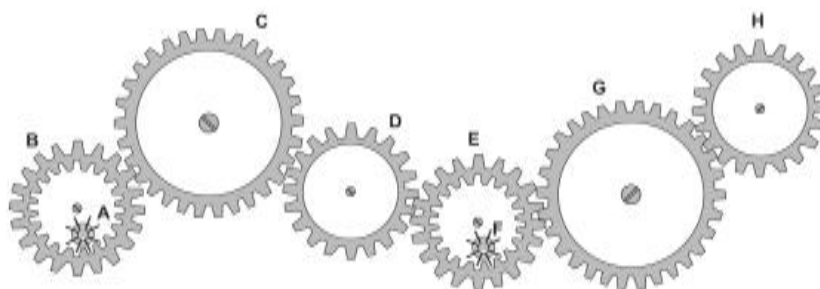
- 3 Rispondere al seguente quesito facendo riferimento al GRAFICO SN 70 B00003
 Nell'Anno C, quale quota di partecipanti (rispetto al totale dell'anno) frequentava il corso di pittura a olio?
 A) 25/110
 B) 50/110
 C) 110/25
- 4 Un gioco ha le seguenti regole: se un numero è divisibile per 5 vale 4 punti; se è divisibile per 9 vale 2 punti. In base a tali regole, quale dei seguenti numeri vale di più? B00004
 A) 60
 B) 27
 C) 36

SUCCESSIONE SZ 62

- 5 Rispondere al seguente quesito facendo riferimento alla SUCCESSIONE SZ 62 B00005
 Individuare il numero mancante:
 A) 42
 B) 40
 C) 45

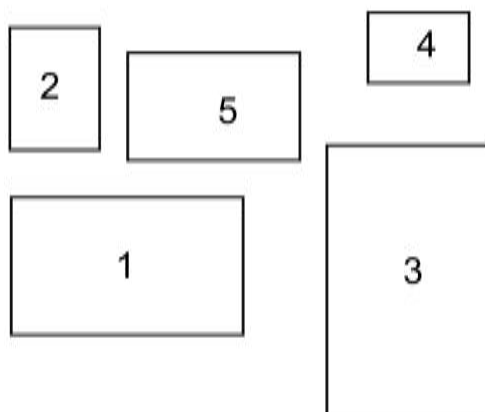
FIGURA ST 86

Nel sistema raffigurato, le ruote dentate sono libere di ruotare attorno a un perno fisso.



- 6 Rispondere al seguente quesito facendo riferimento alla FIGURA ST 86 B00006
Se la ruota dentata G gira in senso orario, in quale senso gira la ruota dentata E?
 A) In senso inverso rispetto alla ruota dentata B
 B) Nello stesso senso della ruota A
 C) In senso orario

- 7 "Non si può escludere che, se Luca non avesse risposto male alle domande, l'esame sarebbe stato superato". In base alla precedente affermazione, quale delle seguenti è certamente vera? B00007
 A) È possibile che l'esame sarebbe stato superato qualora Luca non avesse risposto male alle domande
 B) L'esame sarebbe stato superato se Luca avesse risposto correttamente alle domande
 C) È impossibile che l'esame sarebbe stato superato, qualora Luca avesse risposto male alle domande

FIGURA SY 70

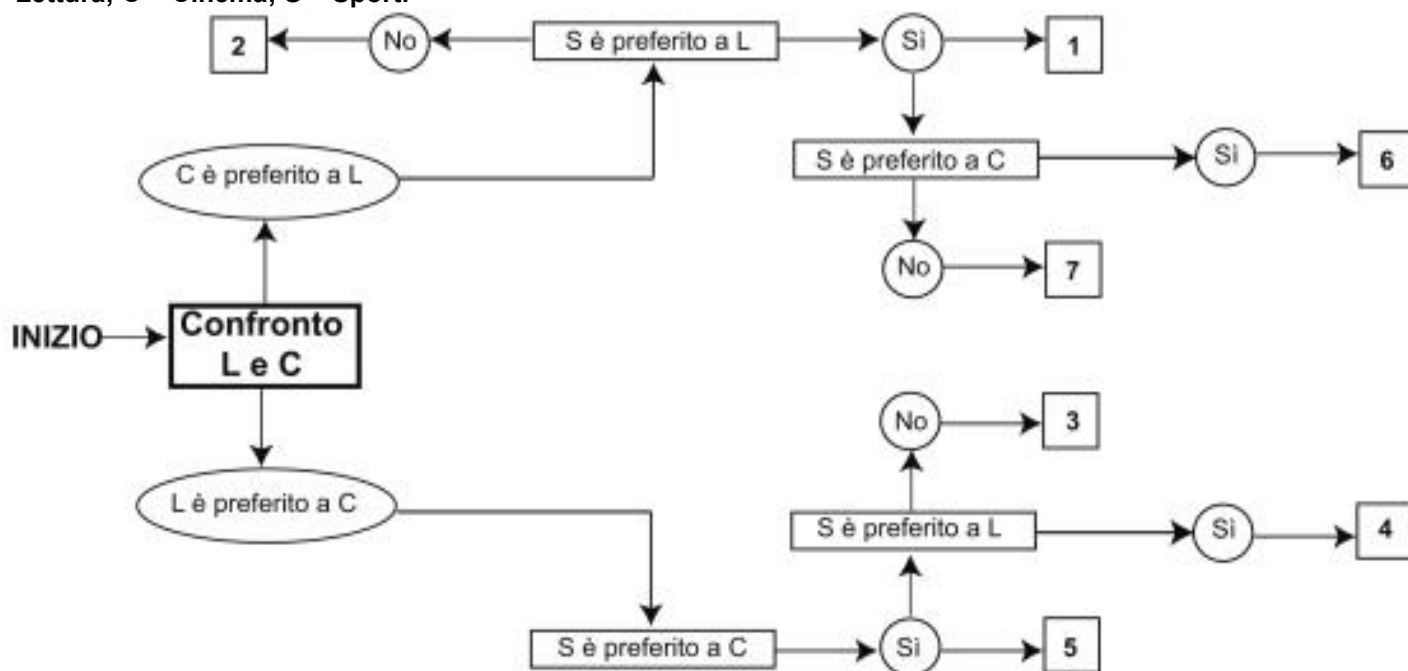
- 8 Rispondere al seguente quesito facendo riferimento alla FIGURA SY 70 B00008
Posizionare le figure proposte in ordine crescente di area.
 A) 4-2-5-1-3
 B) 4-5-2-3-1
 C) 5-4-2-1-3

- 9 Se il regalo di Bruno è più costoso del regalo di Ivan ma meno costoso di quelli di Paolo e di Tommaso, si può affermare con certezza che tra i quattro regali: B00009
- A) il meno costoso è quello di Ivan
B) il più costoso è quello di Bruno
C) quelli di Paolo e Tommaso hanno pari valore
-
- 10 Martino investe 50.000 euro in un fondo che garantisce un rendimento annuo del 50% per 3 anni. A quanto ammonta l'incremento di valore registrato dalla sua partecipazione solamente nel primo anno? B00010
- A) 25.000 euro
B) 56.250 euro
C) 50.000 euro
-
- 11 Il gruppo 5678(0)8765 può considerarsi simmetrico con (0) al centro. Quale tra i seguenti è altrettanto simmetrico? B00011
- A) 135798642(0)246897531
B) 246897531(0)135796842
C) 357986421(0)124689573

DIAGRAMMA SZ 10

Un'indagine di mercato indaga le abitudini degli italiani relative al tempo libero. Il confronto avviene valutando a due a due tre hobby, giudicandone sempre uno come preferito all'altro e mai due come ugualmente preferiti. L'obiettivo è stabilire un ordine di preferenza.


L = Lettura; C = Cinema; S = Sport.



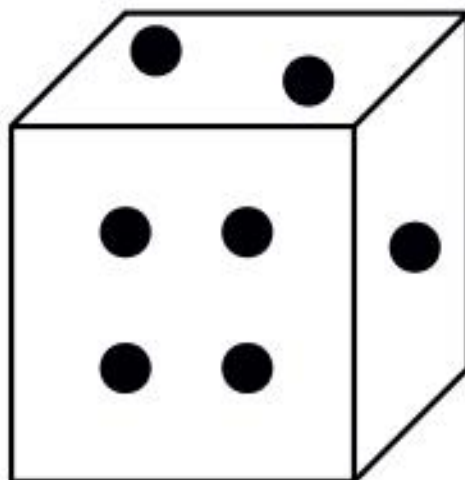
- 12 Rispondere al seguente quesito facendo riferimento al DIAGRAMMA SZ 10 B00012
- Indicare l'ordine di preferenza risultante alla casella "4" del diagramma.
- A) SLC
B) Non è possibile stabilire alcun ordine
C) SCL

- 13 "Per avere la busta paga, è sufficiente rivolgersi all'ufficio preposto". Se la precedente affermazione è vera, allora è certamente vero che: **B00013**
- A) rivolgendosi all'ufficio preposto è possibile avere la busta paga
 B) l'unico ufficio autorizzato alla consegna della busta paga è l'ufficio preposto
 C) chi non è stato pagato, non si è rivolto all'ufficio preposto

- 14 Indicare in quale delle seguenti alternative la lettera V è presente un numero maggiore di volte rispetto alla lettera W. **B00014**
- A) WWWVWWWVWWWV
 B) WWWVVWWWVWWW
 C) VWWWVWWWVWWW

FIGURA SZ 46

- 15 Rispondere al seguente quesito facendo riferimento alla FIGURA SZ 46 **B00015**
 Individuare la figura da scartare.
- A) Figura 3
 B) Figura 1
 C) Figura 2

FIGURA TP 31

- 16 Rispondere al seguente quesito facendo riferimento alla FIGURA TP 31 **B00016**
 Qual è la somma delle facce nascoste del dado?
- A) 14
 B) 7
 C) 21
 D) 11

- 17 **Inserire la sillaba che completa la prima e forma l'inizio della seconda: CODI (...) LESTE.** **B00017**
 A) ce
 B) mo
 C) no

TABELLA SZ 18

Le tabelle riportate rappresentano un estratto degli orari della metropolitana nella stazione di San Babila a Milano.

METROPOLITANA DI MILANO – Linea ROSSA – Fermata SAN BABILA

Direzione RHO FIERA		Direzione SESTO SAN GIOVANNI	
Ore	Minuti	Ore	Minuti
14	5 12 18 25 31 38 44 51 57	14	2 9 15 22 28 35 41 48 54
15	4 10 17 23 30 36 43 49 56	15	1 7 14 20 27 33 40 46 53 59
16	2 9 15 22 28 35 41 46 51 56	16	6 12 19 25 32 38 45 51 57
17	1 6 11 16 21 26 31 36 41 46 51 56	17	3 8 13 18 23 28 33 38 43 48 53 58
18	1 6 11 16 21 26 31 36 41 46 51 56	18	3 8 13 18 23 28 33 38 43 48 53 58
19	1 6 11 16 21 26 31 36 41 46 51 56	19	3 8 13 18 23 28 33 38 43 48 53 58
20	4 10 17 25 33 41 49 58	20	3 8 14 20 26 32 39 47 56
21	6 15 23 32 40 49 57	21	4 13 21 30 38 47 55
22	6 14 23 31 40 48 57	22	4 12 21 29 38 46 55
23	5 14 22 31 39 48 56	23	3 12 20 29 37 46 54
0	5 13 22 31	0	3 11 20 29

- 18 **Rispondere al seguente quesito facendo riferimento alla TABELLA SZ 18** **B00018**
Se arrivo alla fermata alle ore 16:52 e devo recarmi in direzione Sesto San Giovanni, quanti minuti devo aspettare il primo treno utile?
 A) 5
 B) 6
 C) 3

- 19 **Alessia, Bartolomeo e Daniela acquistano insieme 4 kg di fragole, spendendo rispettivamente 20 euro, 15 euro e 5 euro. Se la distribuzione delle fragole viene fatta in proporzione alla cifra versata, qual è la quantità che spetta a Bartolomeo?** **B00019**
 A) 1,5 kg
 B) 0,5 kg
 C) 2 kg

- 20 **Rispondere al seguente quesito facendo riferimento al BRANO AD 91** **B00020**
Wanda indossa il maglione:
 A) écru
 B) zaffiro
 C) acquamarina

- 21 **Com'è qualificata la difesa della patria nel dettato costituzionale italiano?** **B00021**
 A) Come un sacro dovere del cittadino
 B) Come un obbligo di legge per tutti i cittadini
 C) Come una facoltà da porre in essere secondo coscienza

-
- 22 Secondo la Costituzione italiana, il tricolore italiano è composto da tre bande:** **B00022**
A) di uguali dimensioni
B) orizzontali
C) semplicemente verticali
-
- 23 Come si chiamano i soldati inviati in un qualunque Paese per conto dell'ONU?** **B00023**
A) Caschi blu
B) Alleati
C) Pacificatori
-
- 24 In Italia il 12 dicembre 1969 si verificò la prima strage di stampo terroristico, a partire dalla quale si iniziò a parlare di una "strategia della tensione". Dove avvenne?** **B00024**
A) In piazza Fontana, a Milano
B) In piazza della Loggia, a Brescia
C) Alla stazione centrale di Bologna
-
- 25 Qual è l'organo di indirizzo e di controllo politico-amministrativo del Comune?** **B00025**
A) Il Consiglio comunale
B) Il Segretario comunale
C) Il personale dirigente
-
- 26 Ai sensi dell'art. 7 comma 9 del d.lgs. 285/1992 e s.m.i., un provvedimento finalizzato a delineare le aree pedonali e le zone a traffico limitato in caso di urgenza si adotta con:** **B00026**
A) un'ordinanza del Sindaco
B) una deliberazione del Consiglio comunale
C) una deliberazione della Giunta comunale
-
- 27 Secondo il Codice della Strada, il titolare di patente che perde totalmente il punteggio attribuito al documento stesso:** **B00027**
A) deve sottoporsi all'esame di idoneità tecnica
B) è sanzionato con la sospensione della patente per dodici mesi
C) è sanzionato con la sospensione della patente per ventiquattro mesi
-
- 28 Di quale istituzione italiana è sede Palazzo Madama?** **B00028**
A) Senato della Repubblica
B) Camera dei Deputati
C) Presidenza della Repubblica
-
- 29 Secondo il d.lgs. 267/2000, la Giunta comunale:** **B00029**
A) collabora con il Sindaco nel governo del Comune e opera attraverso deliberazioni collegiali
B) sovrintende all'emanazione degli atti in materia di ordine e sicurezza pubblica
C) delibera le relazioni previsionali e programmatiche
-

-
- 30 Con il termine "inflazione" si designa:** **B00030**
- A) un aumento generale dei prezzi dei beni e dei servizi
 - B) un eccesso di prodotti sul mercato
 - C) una diminuzione del potere d'acquisto, riferita solamente a determinate categorie merceologiche
-
- 31 Ai sensi della legge Regione Lombardia 6/2015, i servizi esterni di pattugliamento NON ordinari devono essere svolti:** **B00031**
- A) da almeno due operatori, collegati permanentemente alla centrale radio per eventuale supporto
 - B) da almeno tre operatori, collegati permanentemente alla centrale radio per eventuale supporto
 - C) da un operatore, collegato permanentemente alla centrale radio per eventuale supporto
-
- 32 Qual è la previsione ordinaria di accesso al pubblico impiego, ai sensi dell'art. 97 della Costituzione della Repubblica italiana?** **B00032**
- A) Mediante concorso, salvo i casi stabiliti dalla legge
 - B) Esclusivamente mediante concorso
 - C) A seguito del superamento dell'esame di Stato
-
- 33 Ai sensi del d.P.R. 495/1992, quando il tratto di strada interessato da un cantiere sia più lungo di 100 metri:** **B00033**
- A) deve sempre essere esposto il cartello "LAVORI" corredato da pannello integrativo che ne indichi l'estensione
 - B) deve essere esposto il cartello "LAVORI", ma solo se si tratta di un cantiere fisso
 - C) deve essere esposto il cartello "LAVORI", ma non è necessaria l'indicazione dell'estensione del cantiere
-
- 34 In base alla legge 65/1986 l'organizzazione dei servizi di polizia locale da parte di Enti diversi dai Comuni è:** **B00034**
- A) facoltativa
 - B) obbligatoria
 - C) non consentita, in quanto altri Enti non possono svolgere le funzioni di polizia locale
-
- 35 Ai sensi della legge quadro 65/1986, quali sono le funzioni del Sindaco o dell'Assessore da lui delegato, nei confronti della polizia locale?** **B00035**
- A) Impartisce le direttive, vigila sull'espletamento del servizio
 - B) Programma e pianifica l'attività di medio e lungo termine con apposito atto rivolto al responsabile e verifica il rispetto degli orari di servizio degli agenti
 - C) Si sostituisce al comandante in caso di sua prolungata assenza
-
- 36 Ai sensi dell'art. 14 della Legge n. 689/1981, se non è avvenuta la contestazione immediata, gli estremi della violazione debbono essere notificati agli interessati, residenti nel territorio della Repubblica:** **B00036**
- A) entro il termine di novanta giorni dall'accertamento
 - B) entro il termine di cento giorni dall'accertamento
 - C) entro il termine di trenta giorni dall'accertamento
-

-
- 37 **Ai sensi della legge 689/1981, quando più persone concorrono in una violazione amministrativa:** **B00037**
- A) ciascuna di esse soggiace alla sanzione prevista
 - B) sono obbligate in solido
 - C) risponde chi ha avuto la maggior parte della responsabilità nella commissione della violazione
-
- 38 **Quale evento internazionale, dedicato al design, si svolge annualmente a Milano?** **B00038**
- A) Salone del Mobile
 - B) Miart
 - C) Fashion Week
-
- 39 **A norma del d.lgs. 267/2000, il Sindaco adotta:** **B00039**
- A) le ordinanze contingibili e urgenti in caso di emergenze sanitarie o di igiene pubblica a carattere esclusivamente locale
 - B) i regolamenti previsti dall'art. 7 del d.lgs. 267/2000 in materia commercio, allorquando sia necessario disciplinare – in deroga agli atti adottati dai dirigenti o alla normativa regionale di riferimento – gli orari di vendita, anche per asporto, e la somministrazione di bevande alcoliche e superalcoliche
 - C) nessuna delle altre alternative è corretta
-
- 40 **In virtù dell'art. 18 della legge 689/1981, qualora l'autorità competente ritenga fondato l'accertamento emette:** **B00040**
- A) ordinanza-ingiunzione di pagamento
 - B) decreto di pagamento
 - C) sentenza di condanna di pagamento
-
- 41 **Illustri il candidato gli elementi costitutivi del reato.** **B00041**
-