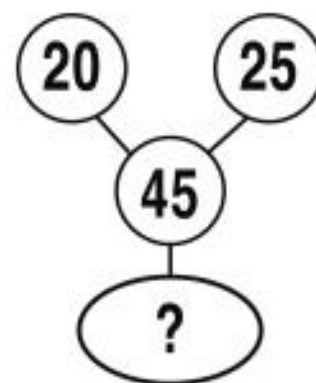
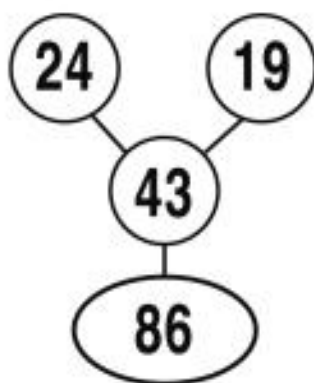
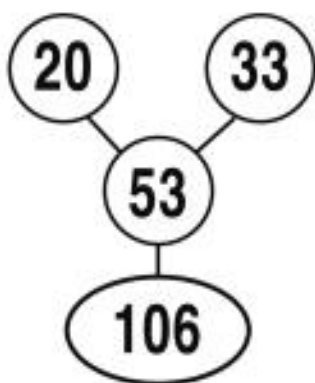




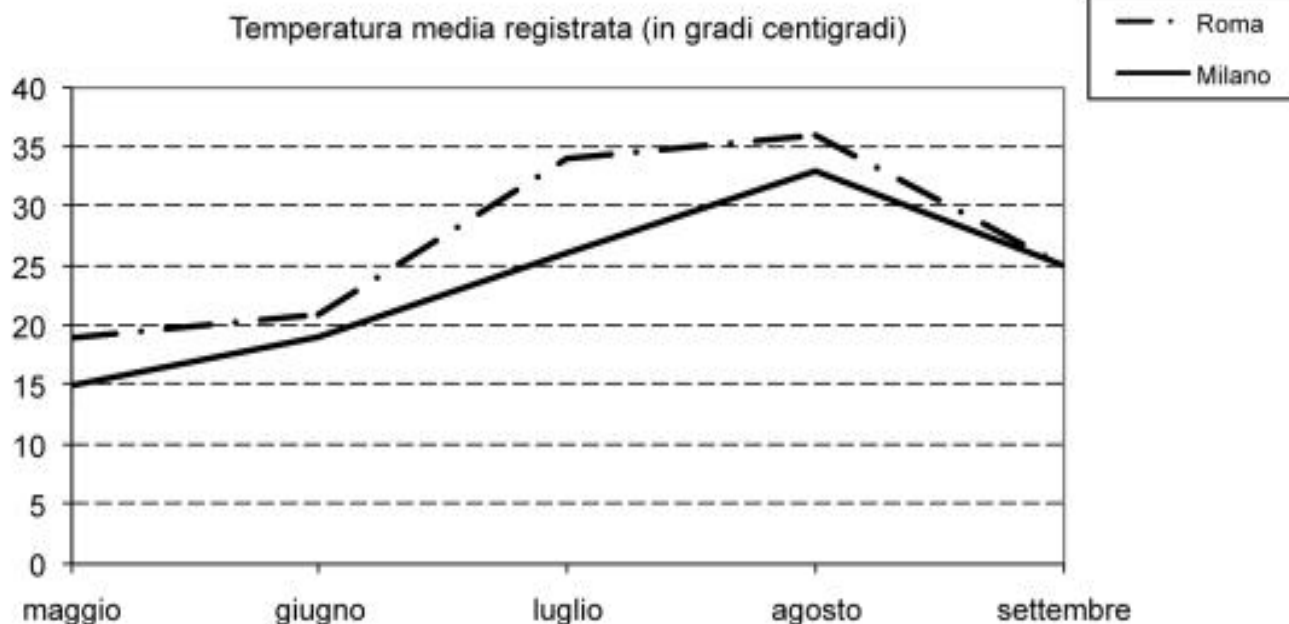
COMUNE DI SESTO SAN GIOVANNI

**SELEZIONE PUBBLICA PER LA COPERTURA
A TEMPO INDETERMINATO DI N°2 POSTI
DI AGENTE DI POLIZIA LOCALE - CAT. C1 -**

PROVA SCRITTA 03

SUCCESSIONE SZ 19

-
- 1 Rispondere al seguente quesito facendo riferimento alla **SUCCESSIONE SZ 19**
Individuare il numero mancante. **C00001**
- A) 90
B) 97
C) 141
-
- 2 Se è vero che "non tutti i prodotti naturali fanno dimagrire", allora è vero che: **C00002**
- A) esiste almeno un prodotto naturale che non fa dimagrire
B) nessun prodotto naturale fa dimagrire
C) i prodotti non naturali fanno dimagrire
-
- 3 Un nuovo gioco ha le seguenti regole: se un numero è divisibile per 7 vale 6 punti; se è divisibile per 6 vale 5 punti. In base a tali regole, quale dei seguenti numeri vale di più? **C00003**
- A) 49
B) 54
C) 36

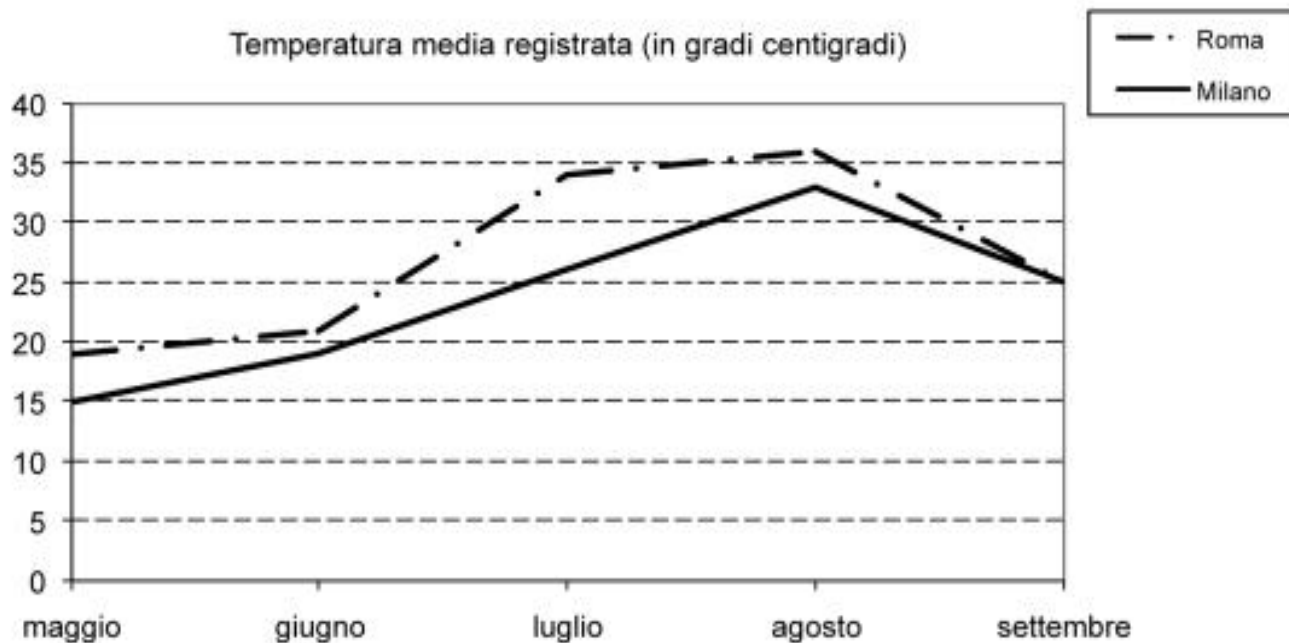
GRAFICO SZ 79

4 Rispondere al seguente quesito facendo riferimento al GRAFICO SZ 79

C00004

In quale mese si è avuta a Roma una temperatura media di circa 35 °C?

- A) Luglio
- B) Giugno
- C) Maggio

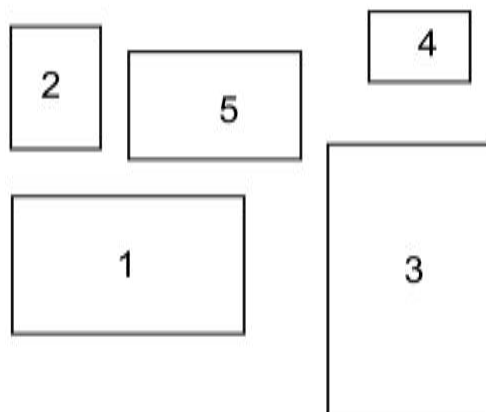
GRAFICO SZ 79

5 Rispondere al seguente quesito facendo riferimento al GRAFICO SZ 79

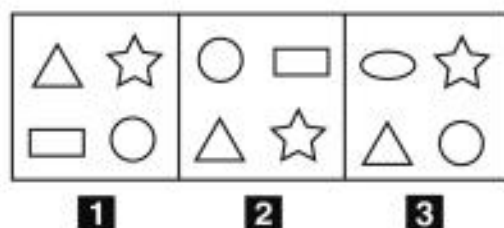
C00005

In quali mesi si è avuta una diminuzione di temperatura in entrambe le città?

- A) Tra agosto e settembre
- B) Tra giugno e luglio
- C) Non vi è un mese in cui la temperatura sia diminuita sia a Milano sia a Roma

FIGURA SY 70

-
- 6 Rispondere al seguente quesito facendo riferimento alla FIGURA SY 70** **C00006**
Posizionare le figure proposte in ordine crescente di area.
A) 4-2-5-1-3
B) 4-5-2-3-1
C) 5-4-2-1-3
-
- 7 Martino investe 50.000 euro in un fondo che garantisce un rendimento annuo del 50% per 3 anni. A quanto ammonta l'incremento di valore registrato dalla sua partecipazione solamente nel primo anno?** **C00007**
A) 25.000 euro
B) 56.250 euro
C) 50.000 euro
-
- 8 Individuare la parola che completa la prima e forma l'inizio della seconda: SC (...) RIO.** **C00008**
A) avo
B) ena
C) arso
-

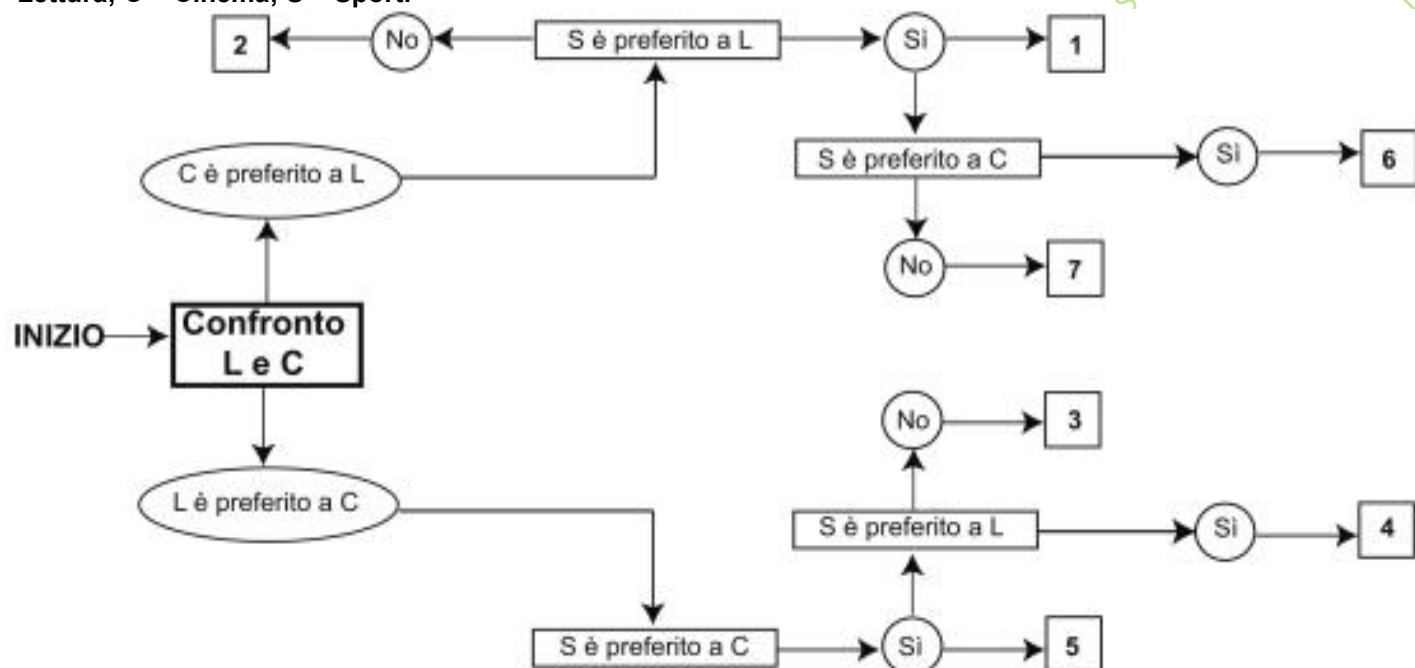
FIGURA SS 18

-
- 9** Rispondere al seguente quesito facendo riferimento alla FIGURA SS 18
Individuare la figura da scartare.
- A) Figura 3
B) Figura 2
C) Figura 1
- C00009**
-
- 10** Il gruppo 5678(0)8765 può considerarsi simmetrico con (0) al centro. Quale tra i seguenti è altrettanto simmetrico?
- A) 135798642(0)246897531
B) 246897531(0)135796842
C) 357986421(0)124689573
- C00010**
-
- 11** Stefano è più lento di Gianluca. Paolo corre più veloce di Marco. Stefano corre più veloce di Paolo. Chi tra i ragazzi è il più veloce?
- A) Gianluca
B) Non è possibile determinarlo
C) Stefano
- C00011**
-

DIAGRAMMA SZ 10

Un'indagine di mercato indaga le abitudini degli italiani relative al tempo libero. Il confronto avviene valutando a due a due tre hobby, giudicandone sempre uno come preferito all'altro e mai due come ugualmente preferiti. L'obiettivo è stabilire un ordine di preferenza.

L = Lettura; C = Cinema; S = Sport.



12 Rispondere al seguente quesito facendo riferimento al DIAGRAMMA SZ 10

C00012

Indicare l'ordine di preferenza risultante alla casella "4" del diagramma.

- A) SLC
- B) Non è possibile stabilire alcun ordine
- C) SCL

13 "Per avere la busta paga, è sufficiente rivolgersi all'ufficio preposto". Se la precedente affermazione è vera, allora è certamente vero che:


C00013

- A) rivolgendosi all'ufficio preposto è possibile avere la busta paga
- B) l'unico ufficio autorizzato alla consegna della busta paga è l'ufficio preposto
- C) chi non è stato pagato, non si è rivolto all'ufficio preposto

14 Indicare in quale delle seguenti alternative la lettera V è presente un numero maggiore di volte rispetto alla lettera W.

C00014

- A) WWWVVVVVVVVVVVVVV
- B) VVVVVVVVVVVVVVVVV
- C) VVVVVVVVVVVVVVVVV

FIGURA TP 31

15 Rispondere al seguente quesito facendo riferimento alla FIGURA TP 31

C00015

Qual è la somma delle facce nascoste del dado?

- A) 14
- B) 7
- C) 21
- D) 11

TABELLA SZ 18

Le tabelle riportate rappresentano un estratto degli orari della metropolitana nella stazione di San Babila a Milano.

METROPOLITANA DI MILANO – Linea ROSSA – Fermata SAN BABILA

Direzione RHO FIERA		Direzione SESTO SAN GIOVANNI	
Ore	Minuti	Ore	Minuti
14	5 12 18 25 31 38 44 51 57	14	2 9 15 22 28 35 41 48 54
15	4 10 17 23 30 36 43 49 56	15	1 7 14 20 27 33 40 46 53 59
16	2 9 15 22 28 35 41 46 51 56	16	6 12 19 25 32 38 45 51 57
17	1 6 11 16 21 26 31 36 41 46 51 56	17	3 8 13 18 23 28 33 38 43 48 53 58
18	1 6 11 16 21 26 31 36 41 46 51 56	18	3 8 13 18 23 28 33 38 43 48 53 58
19	1 6 11 16 21 26 31 36 41 46 51 56	19	3 8 13 18 23 28 33 38 43 48 53 58
20	4 10 17 25 33 41 49 58	20	3 8 14 20 26 32 39 47 56
21	6 15 23 32 40 49 57	21	4 13 21 30 38 47 55
22	6 14 23 31 40 48 57	22	4 12 21 29 38 46 55
23	5 14 22 31 39 48 56	23	3 12 20 29 37 46 54
0	5 13 22 31	0	3 11 20 29

16 Rispondere al seguente quesito facendo riferimento alla TABELLA SZ 18

C00016

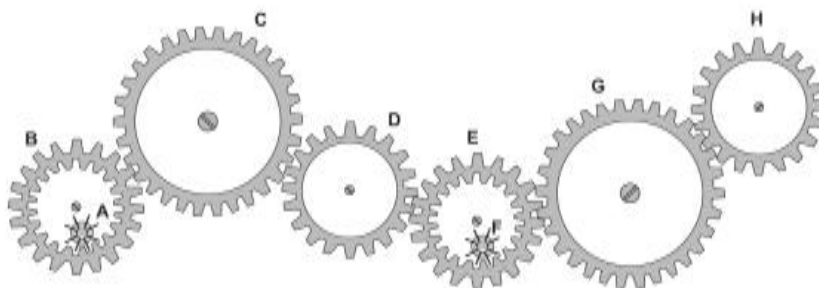
Se arrivo alla fermata alle ore 16:52 e devo recarmi in direzione Sesto San Giovanni, quanti minuti devo aspettare il primo treno utile?

- A) 5
- B) 6
- C) 3

- | | | |
|----|--|--------|
| 17 | <p>Marta, Giulia e Silvio acquistano insieme 15 kg di caramelle, spendendo rispettivamente 30 euro, 45 euro e 75 euro. Se la distribuzione delle caramelle viene fatta in proporzione alla cifra versata, qual è la quantità che spetta a Giulia?</p> <p>A) 4,5 kg
B) 3 kg
C) 7,5 kg</p> | C00017 |
| 18 | <p>Non esiste un fiore della varietà della calendula che sia di colore avorio. Ne segue logicamente che:</p> <p>A) se un fiore è di colore avorio, vuol dire che non è della varietà della calendula
B) tutti i fiori della varietà della calendula sono di colore avorio
C) tutti i fiori della varietà della calendula sono di colore bianco</p> | C00018 |

FIGURA ST 86

Nel sistema raffigurato, le ruote dentate sono libere di ruotare attorno a un perno fisso.



- | | | |
|----|---|---------------|
| 19 | Rispondere al seguente quesito facendo riferimento alla FIGURA ST 86
Se la ruota dentata B gira in senso antiorario, in quale senso gira la ruota dentata C? | C00019 |
| | A) Nello stesso senso della ruota dentata H
B) In senso antiorario
C) In senso inverso rispetto alla ruota dentata H | |
| 20 | Rispondere al seguente quesito facendo riferimento al BRANO AD 91
Wanda indossa il maglione: | C00020 |
| | A) écru
B) zaffiro
C) acquamarina | |
| 21 | Le donne in Italia hanno potuto votare per la prima volta alle elezioni: | C00021 |
| | A) del 1946, le prime dopo la liberazione
B) del 1948, le prime tenutesi in base alla Costituzione repubblicana
C) del 1913, le prime tenutesi a suffragio universale | |
| 22 | Com'è qualificata la difesa della patria nel dettato costituzionale italiano? | C00022 |
| | A) Come un sacro dovere del cittadino
B) Come un obbligo di legge per tutti i cittadini
C) Come una facoltà da porre in essere secondo coscienza | |

- 23 La Costituzione italiana prevede espressamente che la sovranità appartiene:** **C00023**
A) al popolo, che la esercita nelle forme e nei limiti della Costituzione
B) solo al Parlamento, che la esercita nelle forme e nei limiti della Costituzione
C) unicamente al Presidente della Repubblica
- 24 In Italia il 12 dicembre 1969 si verificò la prima strage di stampo terroristico, a partire dalla quale si iniziò a parlare di una "strategia della tensione". Dove avvenne?** **C00024**
A) In piazza Fontana, a Milano
B) In piazza della Loggia, a Brescia
C) Alla stazione centrale di Bologna
- 25 Come si chiamano i componenti della Giunta comunale?** **C00025**
A) Assessori
B) Rappresentanti
C) Revisori
- 26 Ai sensi dell'art. 7 comma 9 del d.lgs. 285/1992 e s.m.i., un provvedimento finalizzato a delineare le aree pedonali e le zone a traffico limitato in caso di urgenza si adotta con:** **C00026**
A) un'ordinanza del Sindaco
B) una deliberazione del Consiglio comunale
C) una deliberazione della Giunta comunale
- 27 Ai sensi del Codice della Strada, una persona che ha effettuato il rinnovo della patente di guida B a 42 anni, a che età dovrà ripresentarsi per il successivo rinnovo?** **C00027**
A) A 52 anni
B) A 45 anni
C) A 50 anni
- 28 Secondo quanto stabilito dall'articolo 234 del TUEL (d.lgs. 267/2000), da quale organo sono eletti i revisori dei conti nei Comuni?** **C00028**
A) Dal Consiglio comunale
B) Dal Presidente della Regione
C) Dal Sindaco
- 29 Di quale istituzione italiana è sede Palazzo Madama?** **C00029**
A) Senato della Repubblica
B) Camera dei Deputati
C) Presidenza della Repubblica
- 30 A tutto febbraio 2023, chi è il Ministro dell'Interno del Governo italiano?** **C00030**
A) Matteo Piantedosi
B) Lorenzo Guerini
C) Luciana Lamorgese

- 31 **Ai sensi della legge Regione Lombardia 6/2015, l'impiego di operatori di Polizia locale presso Amministrazioni locali diverse da quelle di appartenenza è possibile?** C00031
- A) Sì, al fine di far fronte a esigenze di natura temporanea
B) No, in nessun caso
C) Sì, se l'Amministrazione ricevente non ha un corpo di polizia municipale
- 32 **Ai sensi della legge Regione Lombardia 6/2015, i servizi esterni di pattugliamento NON ordinari devono essere svolti:** C00032
- A) da almeno due operatori, collegati permanentemente alla centrale radio per eventuale supporto
B) da almeno tre operatori, collegati permanentemente alla centrale radio per eventuale supporto
C) da un operatore, collegato permanentemente alla centrale radio per eventuale supporto
- 33 **Qual è la previsione ordinaria di accesso al pubblico impiego, ai sensi dell'art. 97 della Costituzione della Repubblica italiana?** C00033
- A) Mediante concorso, salvo i casi stabiliti dalla legge
B) Esclusivamente mediante concorso
C) A seguito del superamento dell'esame di Stato
- 34 **In base alla legge 65/1986, l'organizzazione di servizi di polizia locale è obbligatoria per gli Enti locali diversi dai Comuni?** C00034
- A) No, è facoltativa
B) Sì, lo è
C) No, in quanto questi Enti non possono svolgere funzioni di polizia locale
- 35 **In base al regolamento di attuazione del Codice della Strada (d.P.R. 495/1992), i segnali di pericolo da utilizzare per il segnalamento temporaneo di cantieri stradali devono avere uno specifico colore di fondo?** C00035
- A) Sì, il giallo
B) No, purché il messaggio sia inequivocabile
C) Sì, il rosso
- 36 **Ai sensi della legge quadro 65/1986, quali sono le funzioni del Sindaco o dell'Assessore da lui delegato, nei confronti della polizia locale?** C00036
- A) Impartisce le direttive, vigila sull'espletamento del servizio
B) Programma e pianifica l'attività di medio e lungo termine con apposito atto rivolto al responsabile e verifica il rispetto degli orari di servizio degli agenti
C) Si sostituisce al comandante in caso di sua prolungata assenza
- 37 **Ai sensi dell'art. 6 della legge 689/1981, quando più persone concorrono in una violazione:** C00037
- A) ciascuno di esse soggiace alla sanzione prevista, salvo diversa disposizione di legge
B) risponde chi ha avuto la maggiore parte nella commissione della violazione
C) risponde il soggetto che viene indicato dalle altre persone che hanno concorso alla violazione, come principale responsabile

-
- 38** **Quale evento internazionale, dedicato al design, si svolge annualmente a Milano?** **C00038**
- A) Salone del Mobile
B) Miart
C) Fashion Week
-
- 39** **A norma del d.lgs. 267/2000, il Sindaco adotta:** **C00039**
- A) le ordinanze contingibili e urgenti in caso di emergenze sanitarie o di igiene pubblica a carattere esclusivamente locale
B) i regolamenti previsti dall'art. 7 del d.lgs. 267/2000 in materia commercio, allorquando sia necessario disciplinare – in deroga agli atti adottati dai dirigenti o alla normativa regionale di riferimento – gli orari di vendita, anche per asporto, e la somministrazione di bevande alcoliche e superalcoliche
C) nessuna delle altre alternative è corretta
-
- 40** **In virtù dell'art. 18 della legge 689/1981, qualora l'autorità competente ritenga fondato l'accertamento emette:** **C00040**
- A) ordinanza-ingiunzione di pagamento
B) decreto di pagamento
C) sentenza di condanna di pagamento
-
- 41** **Indichi il candidato quali sono i servizi di Polizia Stradale (art.11 Codice della Strada).** **C00041**
-