

**DOMANDE SELEZIONE PUBBLICA PER LA COPERTURA A TEMPO
PIENO E INDETERMINATO DI N.4 POSTI DI ESPERTO
AMMINISTRATIVO CONTABILE – AREA DEGLI ISTRUTTORI - PROVA
SCRITTA - BUSTA 2**

1) Se 2, 4, 16 / 3, 9, 81 / allora 5, 25, ?

- A 265
 - B 625
 - C 600
-

2) Individuare il numero che completa correttamente la seguente successione numerica:

5 - 20 - 10 - 40 - 20 - ? - 40

- A 60
 - B 80
 - C 40
-

3) Individuare il numero che completa correttamente la seguente successione numerica:

7 - 21 - 18 - 54 - 51 - 153 - ?

- A 456
 - B 141
 - C 150
-

4) Alcuni ricercatori hanno condotto uno studio per comprendere come si forma l'autostima di un adolescente. I ragazzi coinvolti nello studio avevano un'età compresa tra i 10 e i 14 anni. In particolare, dallo studio è emerso che le relazioni strette con amici e genitori aumentano l'autostima degli adolescenti. Senza particolari sorprese, inoltre, è risultato più efficace e fondamentale, per aumentare l'autostima, il rapporto con la madre.

In base alle informazioni contenute esclusivamente nel brano proposto, è corretto affermare che:

- A Alcuni ricercatori hanno coinvolto più di 2.000 preadolescenti in uno studio per comprendere come si forma l'autostima di un adolescente.
 - B I ragazzi coinvolti nello studio per comprendere come si forma l'autostima di un adolescente avevano un'età compresa tra i 10 e i 14 anni.
 - C Dallo studio è emerso che le relazioni strette con amici non aumenta l'autostima degli adolescenti come il rapporto con i genitori e i parenti.
-

5) Le arti marziali sono costituite dall'insieme di tecniche di attacco e di difesa personale, oggi adattate ad una pratica prevalentemente sportiva. Sport quali l'aikido, il judo ed il karate educano l'atleta all'apprendimento di regole ed alla loro comprensione. Definire tali sport violenti è del tutto sbagliato in quanto essi educano l'atleta ad accettare le sconfitte, a rispettare gli avversari e ad impegnarsi duramente per conseguire dei risultati.

In base alle informazioni contenute esclusivamente nel brano proposto, è corretto affermare che:

- A L'aikido, il judo ed il Karate non sono solo sport violenti a differenza degli altri sport adattati dalle arti marziali.
 - B In passato l'aikido, il judo ed il karate erano considerati sport molto violenti.
 - C Aikido, judo e karate educano l'atleta ad impegnarsi duramente per conseguire dei risultati.
-

6) Agrippa ed Ottaviano Augusto avevano la stessa età e si conoscevano sin dall'infanzia. Alla morte di Cesare, Ottaviano riuscì ad arginare il colpo di stato solo grazie all'appoggio dell'amico Agrippa. Ottaviano divenne dunque imperatore. I due furono legati tutta la vita da una forte amicizia, tanto che quando Agrippa morì, Ottaviano osservò un lungo periodo di lutto.

In base alle informazioni contenute esclusivamente nel brano proposto, è corretto affermare che:

- A Quando Cesare fu assassinato, Ottaviano Augusto divenne il secondo imperatore di Roma, essendo suo legittimo erede.
 - B Agrippa morì prima di Ottaviano.
 - C Ottaviano Augusto e Mario Vespasiano Agrippa, si conoscevano fin dall'infanzia, studiarono nelle stesse scuole e militarono negli stessi ranghi dell'esercito.
-

7) Ai sensi dell'art. 186, comma 1, del D.Lgs. 267/2000 e s.m.i., il risultato contabile di amministrazione:

- A È accertato con l'approvazione del bilancio di previsione.
 - B È determinato con la delibera di verifica del permanere degli equilibri di bilancio.
 - C È accertato con l'approvazione del rendiconto dell'ultimo esercizio chiuso.
-

8) In base a quanto prescritto dall'art. 54 del D.Lgs. 165/2001, chi vigila, per ciascuna struttura, sull'applicazione dei codici di comportamento?

- A Il Sindaco.
 - B I Dirigenti responsabili di ciascuna struttura.
 - C Il Direttore Generale.
-

9) Ai sensi dell'art. 55-quarter del D.Lgs. 165/2001, in quale dei seguenti casi il licenziamento disciplinare è senza preavviso?

- A Nessuno, per il licenziamento è sempre previsto un preavviso.
 - B Giustificazione dell'assenza dal servizio mediante una certificazione medica falsa.
 - C Assenza priva di valida giustificazione per un numero di giorni, anche non continuativi, superiore a tre nell'arco di un biennio.
-

10) In base al GDPR, chi può porre in essere le operazioni di trattamento dei dati personali?

- A Solo incaricati che operano sotto la diretta autorità del titolare o del responsabile, attenendosi alle istruzioni impartite.
 - B Incaricati che operano in piena autonomia, prescindendo da indicazioni e istruzioni.
 - C Esclusivamente esperti che risultano iscritti all'Albo presso il Ministero dell'Interno.
-

11) Qual è la forma prevista per gli accordi sostitutivi o integrativi del provvedimento amministrativo, ai sensi dell'art. 11, L. 241/1990?

- A Forma scritta ad probationem.
 - B Forma scritta a pena di nullità.
 - C Forma libera.
-

12) Date le categorie rosso, frutto, radice, cubico, digitale, a quante di queste appartiene, al massimo, la parola "pomodoro"?

- A 2
 - B 1
 - C 3
-

13) "Ogni crostaceo è onnivoro". "Ogni granchio è un crostaceo". Date le due premesse, quale tra le seguenti alternative può concludere correttamente il sillogismo proposto?

- A Ogni granchio è onnivoro.
 - B Alcuni crostacei non sono onnivori.
 - C Tutti gli onnivori sono crostacei.
-

14) Attribuendo ad ogni lettera un valore corrispondente alla sua posizione nell'alfabeto italiano di 21 lettere, quanto vale la somma delle lettere contenute nella parola "ACAIA"?

- A 12
- B 10
- C 15

15) Il gruppo numerico 33090-55668-09083-883033 è uguale a:

- A 33090-56688-09083-883033
- B 33090-55668-09083-883033
- C 33090-55668-09083-830333

16) Quale tra le seguenti serie contiene le stesse vocali e consonanti della parola "BIBLIOTECARIO"?

- A EBBIIOARICTO
- B EBBLIIOARICOT
- C LETBIODRIIOAC

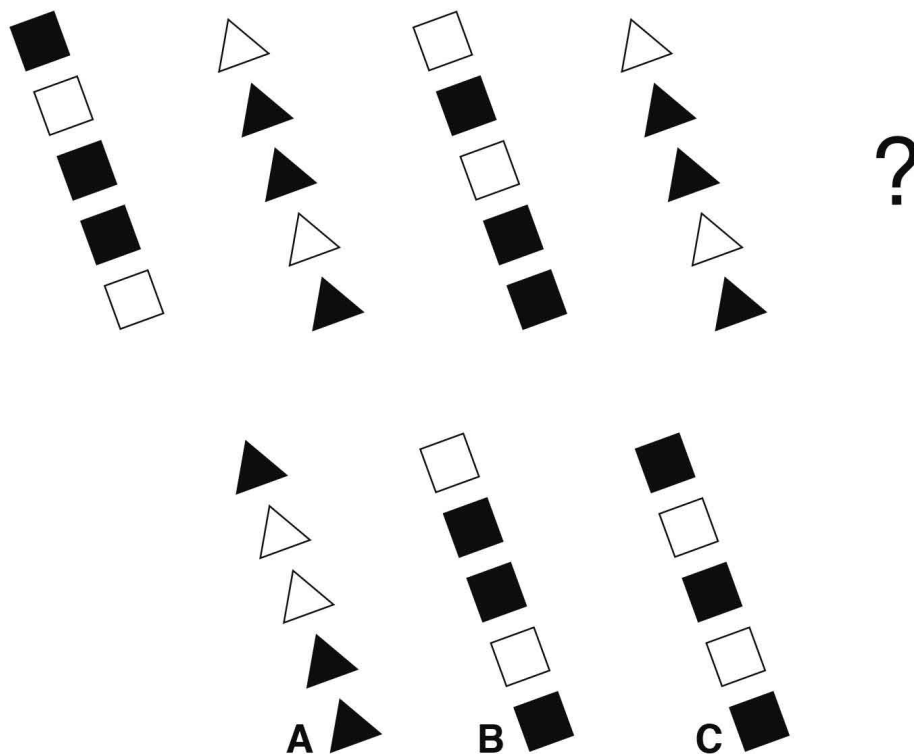
17) Quale tra le seguenti alternative è la frase anagrammata di "MANGIARE DEL RISO"?

- A IL RE DORME E MANGIA
- B SI DORME IN GALERA
- C RE SOLE MANGIA

18) La serie di consonanti KLLDBDDBRRTHLLK è uguale a:

- A KLLDBDDBBBRTHLLK
- B KLLDBDDBRRTHLLK
- C KLLDBDDBRRTHLLK

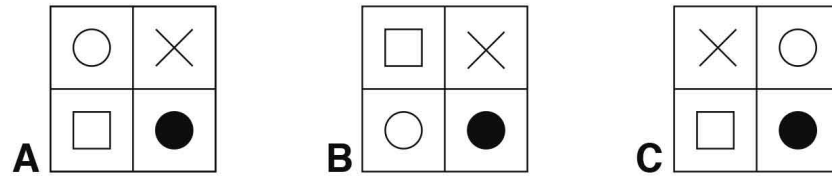
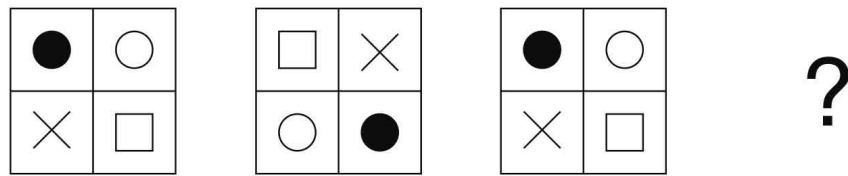
19) Quale figura completa correttamente la serie?



- A La figura corretta è la C.
- B La figura corretta è la B.
- C La figura corretta è la A.

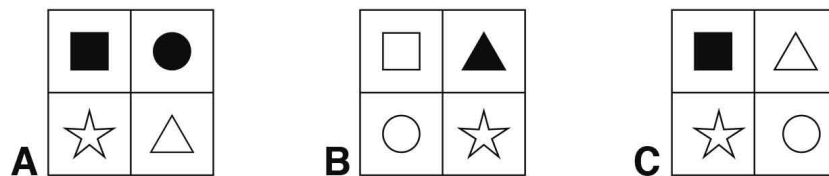
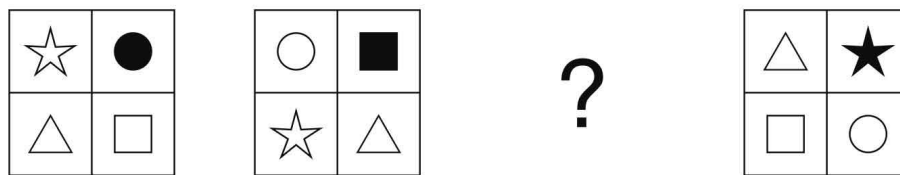
Quale figura completa correttamente la serie?

20)



- A La figura corretta è la C.
- B La figura corretta è la B.
- C La figura corretta è la A.

21) Quale figura completa correttamente la serie?



- A La figura corretta è la A.
- B La figura corretta è la B.
- C La figura corretta è la C.

22) Quale anniversario ricorre il 5 dicembre 2023?

- A 10 anni dalla morte di Nelson Mandela.
- B 30 anni di Unione Europea.
- C 50 anni dal golpe di Pinochet.

23) Quando sono stati ospitati i primi Giochi Olimpici?

- A Nel 1796 a Parigi.
- B Nel 1896 ad Atene.
- C Nel 776 a.C. ad Olimpia.

-
- 24) In quale regione si trova la valle dell'Isarco?
- A Valle d'Aosta.
 - B Piemonte.
 - C Alto Adige.
-
- 25) Chi scrisse il romanzo novecentesco "Il nome della rosa"?
- A Cesare Pavese.
 - B Gabriele D'Annunzio.
 - C Umberto Eco.
-
- 26) Quando fu innalzato il muro di Berlino?
- A 20 ottobre 1929.
 - B 2 settembre 1945.
 - C 13 agosto 1961.
-
- 27) Sara ha 5 anni e suo padre ne ha 25. Quanti anni dovranno passare perché il padre di Sara abbia il doppio della età di Sara?
- A 15
 - B 20
 - C 10
-
- 28) La somma di due numeri è 53 mentre la differenza è 17. Uno di questi due numeri è:
- A 26
 - B 17
 - C 35
-
- 29) In un determinato periodo, il prezzo della benzina subisce un crollo del 50% del suo valore di partenza. Successivamente, il prezzo della benzina sale del 120%. Se il valore di partenza della benzina era pari a X, allora il valore attuale della benzina è:
- A Maggiore di X
 - B Uguale a X
 - C Minore di X
-
- 30) A seguito di alcuni investimenti sbagliati, il patrimonio di Andrea perde il 20%. Dopo altri investimenti il patrimonio di Andrea aumenta del 20%. Se il patrimonio iniziale di Andrea era pari a X, allora il suo patrimonio attuale è di:
- A 0,88X
 - B 0,96X
 - C 0,78X