

**DOMANDE SELEZIONE PUBBLICA PER LA COPERTURA A TEMPO
PIENO E INDETERMINATO DI N.4 POSTI DI ESPERTO
AMMINISTRATIVO CONTABILE – AREA DEGLI ISTRUTTORI - PROVA
SCRITTA - BUSTA 3**

1) Individuare il numero che completa correttamente la seguente successione numerica:

10 - 14 - 13 - 17 - 16 - 20 - ?

- A 25
 - B 19
 - C 14
-

2) Se 15, 10, 5 / 56, 30, 26 / allora 77, 59, ?

- A 17
 - B 18
 - C 21
-

3) Individuare il numero che completa correttamente la seguente successione numerica:

5 - 20 - 10 - 40 - 20 - ? - 40

- A 60
 - B 40
 - C 80
-

4) Numerosi scienziati ed inventori nel corso dei secoli si sono dedicati alla ricerca di un metodo e/o dispositivo utile per la refrigerazione. Soprattutto in seguito all'urbanizzazione, scaturita dallo sviluppo industriale, ed al conseguente svuotamento delle campagne, divenne sempre più necessaria la conservazione degli alimenti.

In base alle informazioni contenute esclusivamente nel brano proposto, è corretto affermare che:

- A Per tutto il Novecento furono decine gli scienziati e gli inventori dediti al tema della refrigerazione, perché molti contadini avevano lasciato le campagne ed il raccolto derivante dall'agricoltura scarseggiava.
 - B La conservazione degli alimenti divenne più necessaria soprattutto in seguito all'urbanizzazione e al conseguente svuotamento delle campagne; l'urbanizzazione è scaturita dallo sviluppo industriale.
 - C La relativa crescita della distanza tra centri abitati e luoghi di produzione del cibo ha innescato l'esigenza di refrigerare gli alimenti, un'esigenza mai avvertita fino ad allora.
-

5) Giuseppe adora le caramelle al gusto di arancia, ma Nicola, suo fratello maggiore, preferisce comprarle sempre e solo al gusto di limone. La nonna di Giuseppe e Nicola, spesso, invece di comprare caramelle di entrambi i gusti, si dimentica e compra caramelle solo al gusto di limone oppure solo al gusto di arancia. Talvolta la nonna compra caramelle al gusto di menta. Giuseppe, essendo più gentile di Nicola, quando la nonna sbaglia non le dice nulla; Nicola invece si arrabbia sempre se la nonna sbaglia comprando quelle al gusto di menta.

In base alle informazioni contenute esclusivamente nel brano proposto, è corretto affermare che:

- A La nonna di Giuseppe e Nicola compra sempre e solo caramelle al gusto di menta.
 - B Nicola è meno gentile di Giuseppe ma più maturo del fratello. Nicola, infatti, anche quando è dispiaciuto perché le caramelle acquistate dalla nonna non corrispondono al suo gusto preferito, non si arrabbia mai.
 - C Giuseppe è il fratello minore di Nicola e adora le caramelle al gusto arancia.
-

6) Le arti marziali sono costituite dall'insieme di tecniche di attacco e di difesa personale, oggi adattate ad una pratica prevalentemente sportiva. Sport quali l'aikido, il judo ed il karate educano l'atleta all'apprendimento di regole ed alla loro comprensione. Definire tali sport violenti è del tutto sbagliato in quanto essi educano l'atleta ad accettare le sconfitte, a rispettare gli avversari e ad impegnarsi duramente per conseguire dei risultati.

In base alle informazioni contenute esclusivamente nel brano proposto, è corretto affermare che:

- A Aikido, judo e karate educano l'atleta ad impegnarsi duramente per conseguire dei risultati.
 - B In passato l'aikido, il judo ed il karate erano considerati sport molto violenti.
 - C L'aikido, il judo ed il Karate non sono solo sport violenti a differenza degli altri sport adattati dalle arti marziali.
-

7) **Quale principio, previsto dal D.Lgs. 118/2011, costituisce il criterio di imputazione agli esercizi finanziari delle obbligazioni giuridicamente perfezionate attive e passive?**

- A Il principio della competenza finanziaria.
 - B Il principio di imparzialità.
 - C Il principio di congruità.
-

8) **Ai sensi dell'art. 162 del D.Lgs. 267/2000, quando inizia e quando termina l'anno finanziario?**

- A Inizia il primo gennaio e termina il 31 dicembre dello stesso anno.
 - B Inizia il primo gennaio e termina il 30 dicembre dello stesso anno.
 - C Inizia il primo settembre e termina il 31 agosto dell'anno successivo.
-

9) **Ai sensi dell'art. 174 del D.Lgs. 267/2000, da chi è deliberato il bilancio di previsione finanziario?**

- A Dall'ANCI.
 - B Dall'organo consiliare.
 - C Dal sindaco.
-

10) **Secondo quanto stabilito dall'art. 180, comma 2, del D.Lgs. 267/2000, la riscossione è disposta a mezzo di:**

- A Ordinativo di pagamento.
 - B Ordinativo di incasso.
 - C Atto di spesa.
-

11) **In base a quanto prescritto dall'art. 54 del D.Lgs. 165/2001, chi vigila, per ciascuna struttura, sull'applicazione dei codici di comportamento?**

- A I Dirigenti responsabili di ciascuna struttura.
 - B Il Direttore Generale.
 - C Il Sindaco.
-

12) **Ieri : -1 = Dopodomani : ?**

- A 1
 - B -2
 - C 2
-

13) **"Ogni crostaceo è onnivoro". "Ogni granchio è un crostaceo". Date le due premesse, quale tra le seguenti alternative può concludere correttamente il sillogismo proposto?**

- A Ogni granchio è onnivoro.
 - B Tutti gli onnivori sono crostacei.
 - C Alcuni crostacei non sono onnivori.
-

14) **Attribuendo ad ogni lettera un valore corrispondente alla sua posizione nell'alfabeto italiano di 21 lettere, quanto vale la somma delle lettere contenute nella parola "ACAIA"?**

- A 12
 - B 10
 - C 15
-

15) **La serie di consonanti CCCGRRSSCGTRSS è uguale a:**

- A CCCGRRSSCGTRSS

- B CCCGGRRRSSGTRSS
- C CCGGRRSSCGTRSS

16) Quale tra le seguenti serie contiene le stesse vocali e consonanti della parola "ANTIBIOGRAMMA"?

- A TIAABIRNNMADG
- B TIAABIRNMMAOG
- C TIAABIRDMNMAO

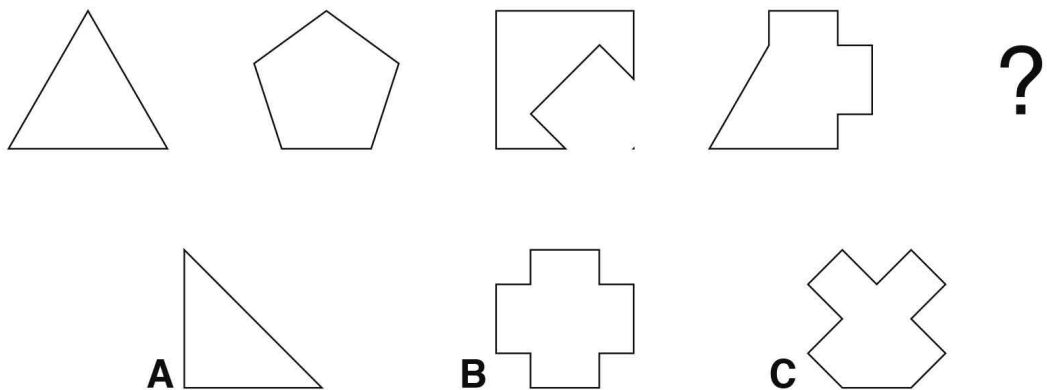
17) Quale tra le seguenti alternative è l'anagramma di "IRONICO"?

- A ISTORICO
- B ONIRICO
- C ICONICO

18) Il gruppo numerico 33090-55668-09083-883033 è uguale a:

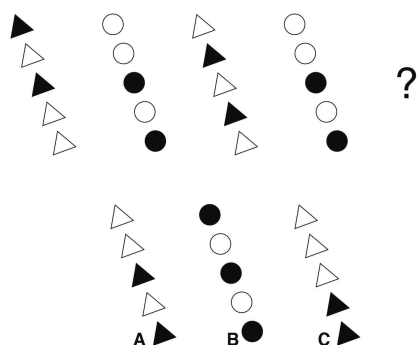
- A 33090-56688-09083-883033
- B 33090-55668-09083-883033
- C 33090-55668-09083-830333

19) Quale figura completa correttamente la serie?



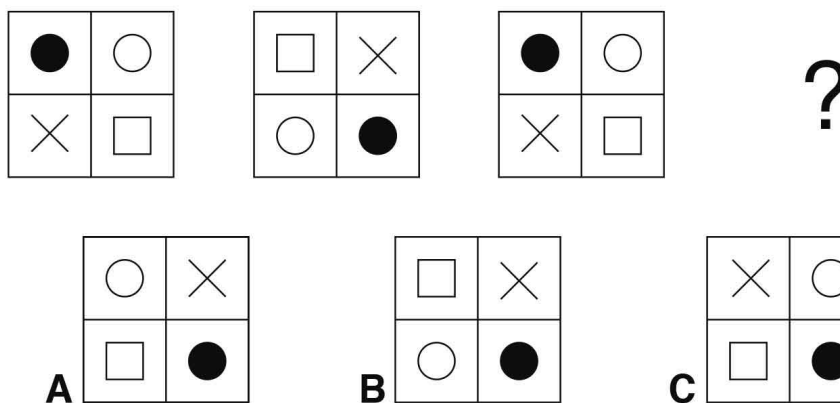
- A La figura corretta è la C.
- B La figura corretta è la A.
- C La figura corretta è la B.

20) Quale figura completa correttamente la serie?



- A La figura corretta è la C.
 B La figura corretta è la A.
 C La figura corretta è la B.

21) Quale figura completa correttamente la serie?



- A La figura corretta è la A.
 B La figura corretta è la B.
 C La figura corretta è la C.

22) Quando è entrata in vigore la Costituzione italiana?

- A 25 aprile 1945
 B 1 gennaio 1948
 C 2 giugno 1946

23) Nel 1986 chi ha vinto il Premio Nobel per la fisiologia e la medicina?

- A Dario Fo.
 B Mario Capecchi.
 C Rita Levi-Montalcini.

24) Quale tra i seguenti pianeti del sistema solare è più grande?

- A Giove.
 B Marte.
 C Nettuno.

-
- 25) Quando sono stati ospitati i primi Giochi Olimpici?
- A Nel 1796 a Parigi.
 - B Nel 1896 ad Atene.
 - C Nel 776 a.C. ad Olimpia.
-
- 26) Chi scrisse il romanzo novecentesco "Il nome della rosa"?
- A Gabriele D'Annunzio.
 - B Umberto Eco.
 - C Cesare Pavese.
-
- 27) Se compro una bottiglia da mezzo litro di succo di frutta che contiene il 35% di succo e il resto di acqua, quanti millilitri di acqua ho comprato?
- A 250 ml
 - B 325 ml
 - C 540 ml
-
- 28) Se $a + b + c = 39$, $b = 2a$ e $c = 5b$, quanto vale b ?
- A 6
 - B 12
 - C 3
-
- 29) Sara ha 5 anni e suo padre ne ha 25. Quanti anni dovranno passare perché il padre di Sara abbia il doppio della età di Sara?
- A 15
 - B 10
 - C 20
-
- 30) La somma di due numeri è 53 mentre la differenza è 17. Uno di questi due numeri è:
- A 26
 - B 17
 - C 35