



COMUNE DI SESTO SAN GIOVANNI

Selezione pubblica per la copertura a tempo pieno e
indeterminato di n. 1 posto di Esperto Amministrativo
Contabile - Area degli Istruttori.

PROVA 01

NON ESTRATA

-
- 1 **Ai sensi dell'art. 149, comma 4, del d.lgs. 267/2000, quale, tra i seguenti elementi, NON viene elencato come parte della finanza dei Comuni e delle Province?** A00001
- A) Trasferimenti europei
 - B) Tasse e diritti per servizi pubblici
 - C) Trasferimenti regionali
 - D) Imposte proprie
-
- 2 **Ai sensi dell'art. 184 del d.lgs. 267/2000, la fase della spesa nella quale l'Amministrazione accerta il diritto acquisito del creditore e la somma certa e liquida da corrispondere, è definita:** A00002
- A) liquidazione
 - B) impegno
 - C) ordinazione
 - D) pagamento
-
- 3 **Ai sensi dell'art. 190 d.lgs. 267/2000, nell'ambito della gestione del bilancio pubblico, cosa rappresentano i residui passivi?** A00003
- A) Le somme impegnate e non pagate entro il termine dell'esercizio
 - B) La differenza tra le spese di previsione e le spese di competenza
 - C) Le spese liquidate entro il termine dell'esercizio ma non impegnate
 - D) La differenza tra le spese correnti e le spese in conto capitale
-
- 4 **Ai sensi dell'art. 165 del d.lgs. 267/2000, le previsioni di spesa del bilancio di previsione sono classificate in:** A00004
- A) missioni e programmi
 - B) articoli e obiettivi
 - C) capitoli e funzioni
 - D) titoli e cespiti
-
- 5 **A norma del d.lgs. 267/2000, come sono articolate le entrate PEG?** A00005
- A) In titoli, tipologie, categorie, capitoli, ed eventualmente in articoli, secondo il rispettivo oggetto
 - B) In titoli, categorie, capitoli, mai in articoli
 - C) Solamente in tipologie, capitoli e categorie
 - D) In articoli, classi, sezioni, ed eventualmente in titoli
-
- 6 **Ai sensi dell'art. 151, comma 8, del d.lgs. 267/2000, l'Ente approva il bilancio consolidato con i bilanci dei propri organismi e enti strumentali e delle società controllate e partecipate entro il:** A00006
- A) 30 settembre
 - B) 30 ottobre
 - C) 30 gennaio
 - D) 30 aprile
-
- 7 **In base al d.lgs. 267/2000, art. 175, le variazioni al bilancio degli Enti locali, salvo determinate eccezioni, sono di competenza:** A00007
- A) dall'organo consiliare
 - B) dall'organo esecutivo
 - C) dell'organo di presidenza
 - D) dall'organo di controllo interno
-

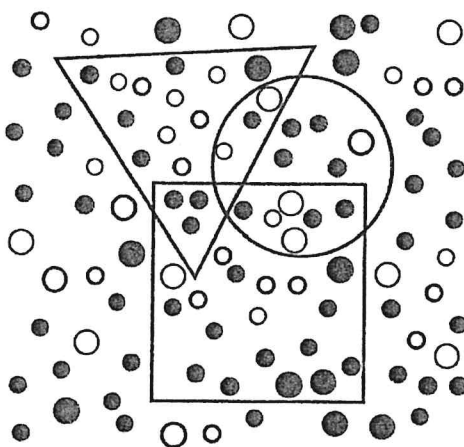
-
- 8 In base al d.lgs. 267/2000, art. 181, la fase del procedimento dell'entrata che consiste nel trasferimento delle somme riscosse nelle casse dell'ente è: **A00008**
- A) il versamento
 - B) l'accertamento
 - C) la riscossione
 - D) l'obbligazione
-
- 9 Il Documento Unico di Programmazione, a norma dell'art. 170 del d.lgs. 267/2000, si compone delle seguenti sezioni: **A00009**
- A) Sezione strategica e Sezione operativa
 - B) Sezione strategica, Sezione operativa e Sezione contabile
 - C) Sezione strategica e Sezione finanziaria
 - D) Sezione contabile e Sezione finanziaria
-
- 10 Ai sensi dell'art. 162 del d.lgs. 267/2000 gli Enti locali devono deliberare annualmente il bilancio di previsione finanziario con riferimento ad almeno: **A00010**
- A) un triennio
 - B) un biennio
 - C) un quadriennio
 - D) un quinquennio
-
- 11 L'art. 1 della legge 241/1990 prevede che vi sia: **A00011**
- A) il divieto di aggravare il procedimento se non per straordinarie e motivate esigenze imposte dallo svolgimento dell'istruttoria
 - B) il divieto di interventi di carattere consultivo facoltativo
 - C) il divieto inderogabile di aggravare il procedimento
 - D) l'obbligo di aggravare i procedimenti aventi un valore superiore a quello determinato nel Regolamento di contabilità di ciascun Ente
-
- 12 Ai sensi dell'art. 3 della legge 241/1990, la motivazione del provvedimento amministrativo deve indicare: **A00012**
- A) i presupposti di fatto e le ragioni giuridiche che hanno determinato la decisione dell'Amministrazione, in relazione alle risultanze dell'istruttoria
 - B) esclusivamente i fini pubblici perseguiti dal provvedimento
 - C) i presupposti di fatto che hanno determinato la decisione e, solo se richiesto dagli interessati al provvedimento amministrativo, le ragioni giuridiche
 - D) esclusivamente le ragioni giuridiche che hanno determinato la decisione
-
- 13 In base alla legge 190/2012, il Piano nazionale anticorruzione deve essere aggiornato: **A00013**
- A) ogni anno
 - B) ogni cinque anni e non può essere confermato
 - C) ogni tre anni e può essere confermato
 - D) ogni tre anni e può essere confermato una sola volta
-
- 14 In base alla legge 241/1990, se per manifesta infondatezza della domanda la Pubblica Amministrazione conclude un procedimento con un provvedimento in forma semplificata, la motivazione: **A00014**
- A) può consistere in un sintetico riferimento al punto di fatto o di diritto ritenuto risolutivo
 - B) non è necessaria, ma può ugualmente essere fornita
 - C) può essere omessa, ma, se richiesta dall'istante, deve essere successivamente fornita
 - D) è vietata
-

-
- 15 **A norma del Regolamento UE 2016/679 (GDPR), se l'interessato revoca il consenso al trattamento dei dati personali, il trattamento effettuato prima della revoca:** A00015
- A) resta lecito
 - B) diviene illecito
 - C) dà comunque diritto all'interessato a un indennizzo
 - D) non è illecito, ma il titolare è tenuto a minimizzarne gli effetti
-
- 16 **Secondo l'art. 5 del Codice di comportamento dei dipendenti delle Pubbliche Amministrazioni (d.P.R. 62/2013), il dipendente pubblico:** A00016
- A) non è tenuto a comunicare la sua adesione a un partito politico
 - B) è obbligato a comunicare la sua adesione a un partito politico
 - C) è tenuto a comunicare la sua adesione a un partito politico, solo se gli interessi del partito siano coinvolti nell'attività dell'ufficio
 - D) è obbligato a comunicare la sua adesione a un partito politico, solo se si tratta di un gruppo politico extraparlamentare
-
- 17 **Secondo il d.lgs. 165/2001, la sanzione disciplinare del licenziamento si applica anche nel caso di giustificazione dell'assenza dal servizio mediante una certificazione medica falsa?** A00017
- A) Sì, si applica
 - B) No, il decreto non lo prevede
 - C) Sì, ma solo in alcuni casi espressamente stabiliti nel decreto
 - D) No, in questo caso è prevista una sanzione disciplinare conservativa
-
- 18 **Secondo il d.lgs. 165/2001, nel caso in cui un dipendente pubblico raggiunga il periodo massimo di collocamento in disponibilità, qual è l'alternativa alla risoluzione del rapporto di lavoro?** A00018
- A) La ricollocazione dell'interessato presso un'altra Amministrazione
 - B) Nessuna, in quanto la risoluzione è automatica
 - C) Solo il trasferimento del dipendente interessato in Amministrazioni Pubbliche simili ubicate in altre aree metropolitane
 - D) La sospensione a tempo indeterminato del rapporto di lavoro con il dipendente
-
- 19 **Ai sensi dell'art. 54 del d.lgs. 165/2001 e s.m.i., la violazione dei doveri contenuti nel Codice di comportamento dei pubblici dipendenti è rilevante ai fini:** A00019
- A) della responsabilità civile, amministrativa e contabile ogniqualvolta le stesse responsabilità siano collegate alla violazione di doveri, obblighi, leggi o regolamenti
 - B) della sola responsabilità amministrativa ogniqualvolta la stessa responsabilità sia collegata alla violazione di doveri, obblighi, leggi o regolamenti
 - C) della sola responsabilità civile ogniqualvolta la stessa responsabilità sia collegata alla violazione di doveri, obblighi, leggi o regolamenti
 - D) della sola responsabilità disciplinare ogniqualvolta la stessa responsabilità sia collegata alla violazione di doveri, obblighi, leggi o regolamenti
-
- 20 **In base al d.P.R. 62/2013, il pubblico dipendente, qualora venga a conoscenza di situazioni di illecito nell'Amministrazione:** A00020
- A) ha l'obbligo di denuncia all'autorità giudiziaria e di segnalazione al proprio superiore gerarchico
 - B) ha l'obbligo di denuncia all'autorità giudiziaria, ma non quello di segnalazione al proprio superiore gerarchico
 - C) ha l'obbligo di segnalazione al proprio superiore gerarchico, ma non quello di denuncia all'autorità giudiziaria
 - D) deve scegliere tra la denuncia all'autorità giudiziaria e la segnalazione al proprio superiore gerarchico
-

- 21 Un gioco ha le seguenti regole: se un numero è divisibile per 5 vale 4 punti; se è divisibile per 8 vale 3 punti. In base a tali regole, quale dei seguenti numeri vale di più? **A00021**
- A) 40
B) 24
C) 48
D) 56
-
- 22 Indicare in quale delle seguenti alternative la lettera P è presente il maggior numero di volte. **A00022**
- A) PHPPSPHPPPPPTP
B) PHHPHPPHPPPHPPH
C) PTPHSPPSPHPPPP
D) PHTPPSPHPPPPPTP
-
- 23 Se la lettera S identifica una qualunque cifra (singola), la lettera V identifica una qualunque cifra (singola) pari e la lettera L identifica una qualunque cifra (singola) dispari, allora LSSV è un numero: **A00023**
- A) pari di quattro cifre
B) pari di due cifre
C) dispari di due cifre
D) dispari di quattro cifre

FIGURA SX 83

Nella figura sono rappresentate tre figure geometriche, un quadrato, un triangolo e un cerchio, che contengono dei pallini neri e bianchi.



- 24 Rispondere al seguente quesito facendo riferimento alla FIGURA SX 83 **A00024**
- Quanti pallini bianchi sono contenuti nel triangolo, escludendo le intersezioni con il quadrato e con il cerchio?
- A) 7
B) 6
C) 8
D) 5

SCHEMA ZZ 03

◇	#	#	ç	&	◇	&	&	&	#
£	£	@	*	\$	ç	*	\$	◇	\$
&	\$	\$	◇	△	\$	&	#	*	ç
◇	ç	*	£	*	#	#	\$	#	*
\$	*	ç	ç	\$	@	£	ç	\$	&
#	*	◇	£	#	△	&	\$	◇	\$
\$	&	\$	\$	\$	*	◇	*	ç	£
△	£	ç	*	◇	*	&	\$	*	@
£	◇	&	△	£	@	*	#	\$	&
◇	◇	◇	*	ç	\$	#	£	△	◇

25 Rispondere al seguente quesito facendo riferimento allo SCHEMA ZZ 03

A00025

Il numero di \$ meno il numero di # è uguale a:

- A) 8
- B) 5
- C) 7
- D) 9

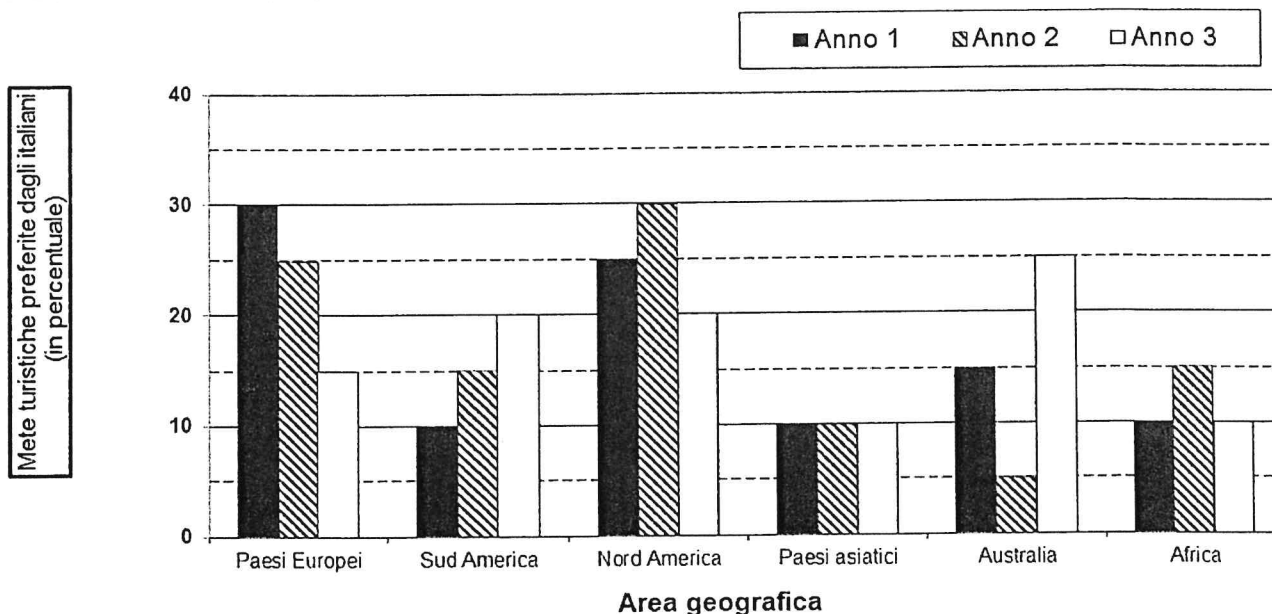
26 Rispondere al seguente quesito facendo riferimento al BRANO GG 47

A00026

Chi è il più vicino al guidatore?

- A) Luca
- B) Giacomo
- C) Fabio
- D) Marco

GRAFICO SZ 25



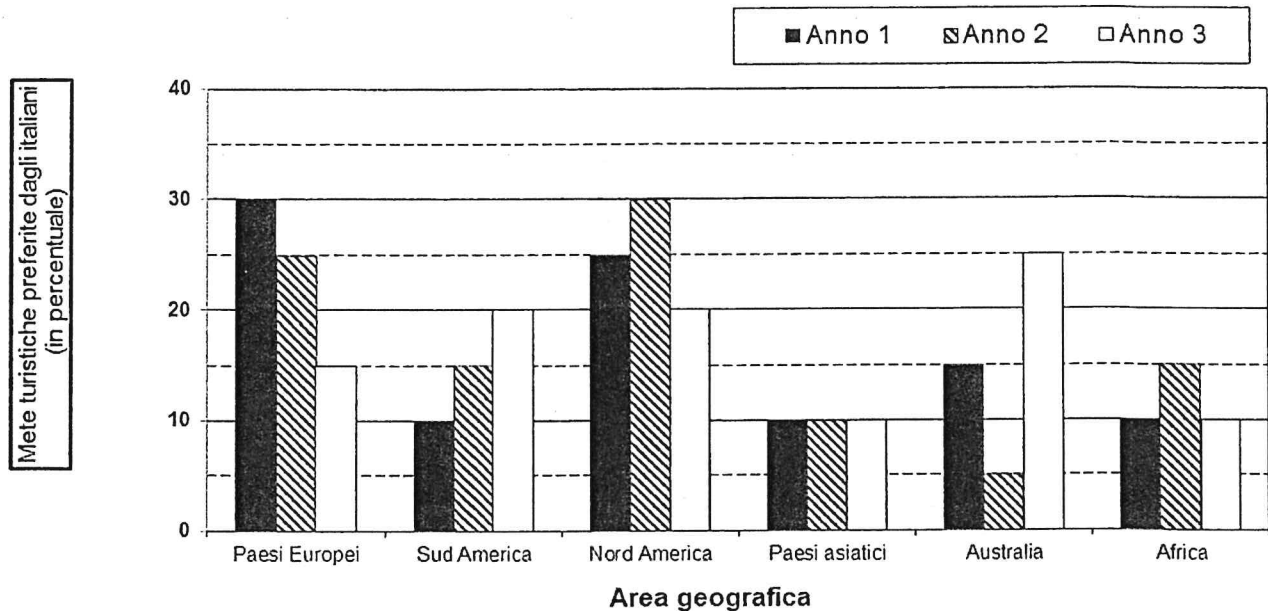
27 Rispondere al seguente quesito facendo riferimento al GRAFICO SZ 25

A00027

In quale delle aree geografiche vi è stato un costante incremento percentuale del turismo nel triennio considerato?

- A) Sud America
- B) Paesi asiatici
- C) Paesi europei
- D) Africa

GRAFICO SZ 25



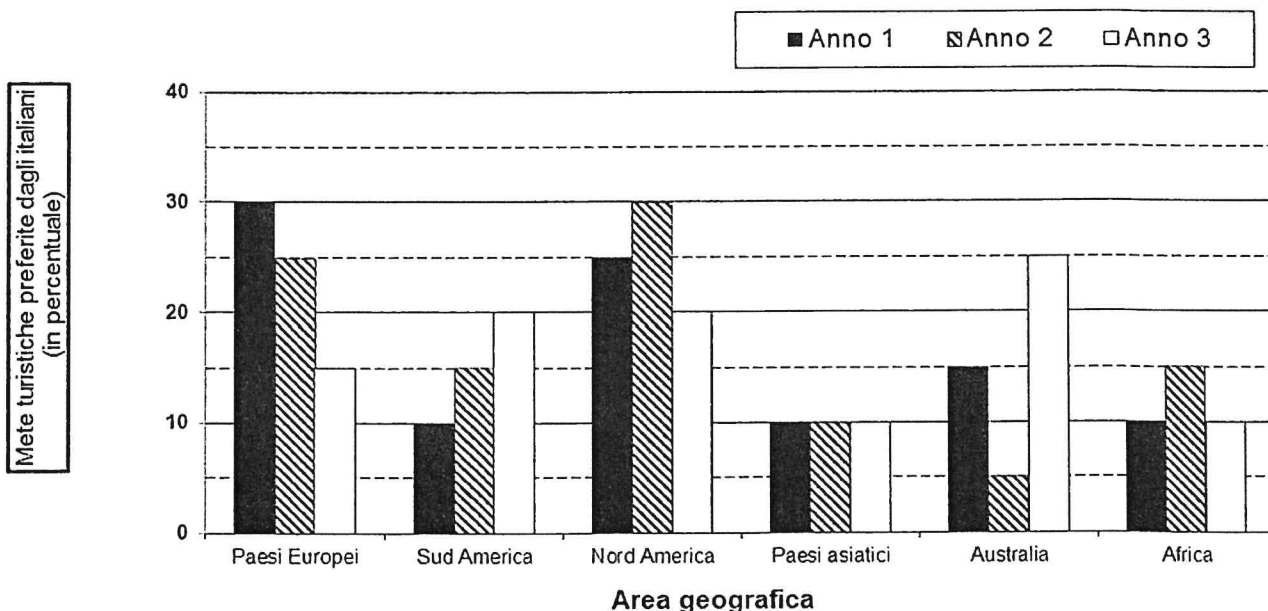
28 Rispondere al seguente quesito facendo riferimento al GRAFICO SZ 25

A00028

Quale delle seguenti affermazioni è corretta sulla base dei dati riportati nel grafico?

- A) Tra l'Anno 2 e l'Anno 3 il maggior incremento di preferenze si è verificato per l'Australia
- B) Il livello di gradimento degli italiani per il Nord America è cresciuto nell'ultimo triennio
- C) Nell'Anno 2 i Paesi asiatici sono stati la meta turistica meno gradita dagli italiani
- D) Nell'Anno 2 gli italiani hanno espresso un'uguale preferenza per il Sud America, per l'Africa e per i Paesi europei

GRAFICO SZ 25



29 Rispondere al seguente quesito facendo riferimento al GRAFICO SZ 25

A00029

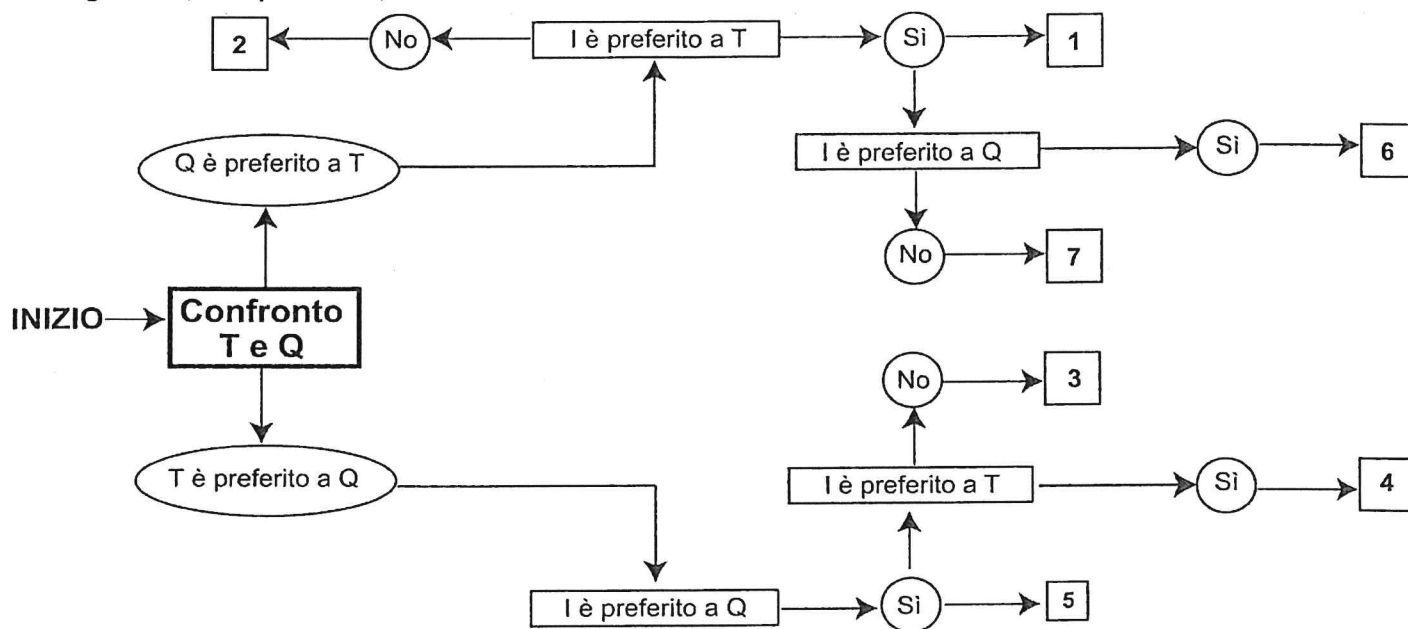
Che cosa esprime il grafico?

- A) Il livello di preferenza espresso dagli italiani verso le mete turistiche straniere
- B) La percentuale di italiani che sono andati in vacanza nell'ultimo triennio
- C) Il numero di turisti stranieri che hanno visitato l'Italia
- D) La percentuale di emigrati italiani per Paese di destinazione

DIAGRAMMA SZ 14

Una società sottopone ai propri dipendenti un test per conoscere le loro abitudini. Una domanda verte su quale sia il canale seguito per conoscere le notizie. La classifica avviene valutando a due a due tre mezzi di comunicazione, giudicandone sempre uno come preferito all'altro e mai due come ugualmente preferiti. L'obiettivo quindi è stabilire un ordine di preferenza generale tra i dipendenti.

T = telegiornale, Q = quotidiano, I = Internet.




- 30 Rispondere al seguente quesito facendo riferimento al DIAGRAMMA SZ 14 A00030
Indicare l'ordine di preferenza risultante alla casella "3" del diagramma.
- A) TIQ
B) IQT
C) È possibile più di un ordine
D) Non è possibile stabilire alcun ordine
-
- 31 Una libreria ha 6 ripiani; disponendo 21 libri per ripiano, si occupano interamente solo i primi 4 ripiani. Se si volesse occupare tutta la libreria, invece, quanti libri bisognerebbe disporre su ogni ripiano facendo in modo che il numero di libri per ripiano sia lo stesso? A00031
- A) 14
B) 16
C) 15
D) 17
-
- 32 Un motociclista ha compiuto i $\frac{2}{5}$ di una gara. Se ha corso per 20 chilometri, quanti chilometri è lungo il percorso di gara? A00032
- A) 50
B) 60
C) 100
D) 40
-
- 33 In un gruppo di 400 persone si trovano 160 maggiorenni. Quale percentuale di persone del gruppo è minorenni? A00033
- A) 60%
B) 40%
C) 80%
D) 70%

- 34 Estrahendo una pallina da un'urna contenente 100 palline, di cui 25 blu, 15 rosse e 60 gialle, qual è la probabilità che esca una pallina blu? A00034
- A) 1/4
B) 1/5
C) 1/2
D) 1/8

FIGURA ST 99

Un'asse graduata di legno è appoggiata su un perno nel suo punto medio e su di essa sono sistemati alcuni gettoni, tutti di peso uguale.



- 35 Rispondere al seguente quesito facendo riferimento alla FIGURA ST 99 A00035
Per equilibrare il sistema in figura è necessario cambiare posizione a un gettone:
- A) dalla posizione 7 alla posizione 8
B) dalla posizione 7 alla posizione 9
C) nessuna delle altre alternative è corretta: l'asse è già in equilibrio
D) dalla posizione 4 alla posizione 3
-
- 36 Cinque treni, A, B, C, D ed E, partono dalla stessa stazione diretti in cinque città differenti. A00036
Si sa che: I) C è più veloce di B ma arriva dopo di questo che è, invece, il primo ad arrivare; II) A è l'ultimo ad arrivare anche se è più veloce di D e meno veloce di B; III) E, il secondo treno ad arrivare a destinazione, è più veloce di D, ma meno veloce di A. In base alle precedenti informazioni il treno più veloce è:
- A) il treno C
B) il treno E
C) il treno A
D) il treno B
-
- 37 Quali, tra i termini proposti, completano correttamente la seguente proporzione verbale? A00037
Municipio : sindaco = X : Y
- A) X = piscina; Y = bagnino
B) X = muro; Y = uomo
C) X = Presidente della Repubblica; Y = Quirinale
D) X = nuoto; Y = istruttore

-
- 38 **"Se e solo se la frutta viene coltivata intensivamente, il reddito medio dei contadini aumenterà significativamente". In base alla precedente affermazione, è necessariamente vero che:** **A00038**
- A) se la frutta non viene coltivata intensivamente, il reddito medio dei contadini non aumenterà significativamente
 - B) per aumentare significativamente il reddito medio dei contadini, occorre coltivare intensivamente la frutta di stagione
 - C) anche se la frutta viene coltivata intensivamente, il reddito medio dei contadini potrebbe non aumentare significativamente
 - D) se la frutta viene coltivata non intensivamente, il reddito medio dei contadini si ridurrà significativamente
-
- 39 **"Gli italiani sono uomini. Gli uomini non possono essere filosofi". In base alle precedenti informazioni, quale delle seguenti affermazioni è certamente vera?** **A00039**
- A) Gli italiani non possono essere filosofi
 - B) I filosofi possono essere italiani
 - C) Alcuni italiani sono filosofi
 - D) Alcuni filosofi sono italiani
-
- 40 **"Il castello di carte cadrà se e solo se soffierà il vento". In base alla precedente affermazione, quale delle seguenti NON è necessariamente vera?** **A00040**
- A) Anche se il vento soffierà, il castello di carte potrà non cadere
 - B) Il castello di carte non cadrà se non soffierà il vento
 - C) Se il castello di carte non cadrà, vuol dire che non avrà soffiato il vento
 - D) È sufficiente che soffi il vento perché il castello di carte cada
-
- 41 **Nel corso della gestione, il Servizio Sociale del Comune si trova ad avere nuove esigenze di spesa e gli stanziamenti previsti nel bilancio di previsione non sono sufficienti a coprire le nuove esigenze sopraggiunte.** **A00041**
Il/La candidato/a, dopo aver esposto le tipologie di variazioni consentite dal TUEL 267/2000, rediga una relazione per il Dirigente contenente le azioni che si possono mettere in campo.
-