



COMUNE DI SESTO SAN GIOVANNI

**Selezione pubblica per la copertura a tempo pieno e
indeterminato di n. 1 posto di Esperto Amministrativo
Contabile - Area degli Istruttori.**

PROVA 02

NON ESTIPATA

-
- 1 **Nella contabilità pubblica, i residui attivi:** B00001
A) sono le somme accertate e non riscosse entro il termine dell'esercizio
B) esprimono le spese ordinate ma non ancora pagate
C) possono essere eliminati dalle scritture contabili
D) sono le spese impegnate ma non ancora pagate
-
- 2 **Ai sensi dell'art. 149 del decreto legislativo 267/2000, gli Enti locali hanno potestà impositiva?** B00002
A) Sì, potestà impositiva autonoma nel campo delle imposte, delle tasse e delle tariffe
B) Sì, potestà impositiva autonoma, ma nel solo campo delle tariffe
C) Sì, potestà impositiva autonoma, ma nel solo campo delle tasse
D) No, non hanno potestà impositiva propria
-
- 3 **Ai sensi dell'art. 162 del d.lgs. 267/2000, l'unità temporale della gestione è:** B00003
A) l'anno finanziario, che inizia il 1° gennaio e termina il 31 dicembre dello stesso anno; dopo tale termine non possono più effettuarsi accertamenti di entrate e impegni di spesa in conto dell'esercizio scaduto
B) l'anno finanziario, che inizia il 1° marzo e termina il 28 febbraio dell'anno successivo; dopo tale termine non possono più effettuarsi accertamenti di entrate e impegni di spesa in conto dell'esercizio scaduto
C) l'esercizio gestionale, che inizia il 1° gennaio e termina il 31 dicembre dello stesso anno; dopo tale termine ma entro il 28 febbraio dell'anno successivo possono effettuarsi accertamenti di entrate e impegni di spesa in conto dell'esercizio scaduto
D) l'anno finanziario, che inizia il 1° gennaio e termina il 31 dicembre dello stesso anno; dopo tale termine ma entro il 28 febbraio dell'anno successivo possono effettuarsi accertamenti di entrate e impegni di spesa in conto dell'esercizio scaduto
-
- 4 **L'articolo 170, comma 2, del d.lgs. 267/2000, stabilisce che il Documento unico di programmazione di un Ente locale:** B00004
A) ha carattere generale e costituisce la guida strategica e operativa dell'Ente
B) è un documento di dettaglio
C) viene presentato dal Consiglio alla Giunta
D) nessuna delle altre alternative è corretta
-
- 5 **Il Piano Esecutivo di Gestione (PEG) di un Comune è approvato:** B00005
A) dalla Giunta entro 20 giorni dall'approvazione del bilancio di previsione e individua gli obiettivi della gestione
B) dal Consiglio comunale all'inizio dell'esercizio e specifica gli obiettivi da raggiungere, le dotazioni di risorse e i relativi responsabili
C) dal Sindaco alla fine dell'esercizio ed è un documento di carattere puramente finanziario
D) dal Sindaco alla fine dell'esercizio se la contabilità economica non è stata ancora implementata
-
- 6 **Il Documento unico di Programmazione (DUP) deve essere redatto e approvato:** B00006
A) prima del Bilancio di previsione
B) contemporaneamente al bilancio di previsione
C) subito dopo il bilancio di previsione
D) sei mesi dopo il bilancio di previsione
-
- 7 **Ai sensi del d.lgs. 267/2000, quando diventano esecutivi i provvedimenti dei responsabili dei servizi che comportano impegni di spesa?** B00007
A) Con l'apposizione del visto attestante la copertura finanziaria
B) Al momento della loro adozione da parte del responsabile del servizio competente
C) Dopo il decimo giorno dalla loro pubblicazione nell'Albo Pretorio
D) Immediatamente
-

-
- 8 In base all'art. 174 del d.lgs. 267/2000, lo schema del bilancio di previsione degli Enti locali è predisposto: B00008
- A) dall'organo esecutivo
 - B) dall'organo consiliare
 - C) dall'organo di controllo interno
 - D) dall'amministrazione vigilante
-
- 9 In base al d.lgs. 267/2000, art. 180, la fase del procedimento dell'entrata che consiste nel materiale introito, da parte del tesoriere o di altri eventuali incaricati, delle somme dovute all'Ente è: B00009
- A) la riscossione
 - B) l'accertamento
 - C) il versamento
 - D) l'obbligazione
-
- 10 In base al d.lgs. 267/2000 e s.m.i., il bilancio di previsione finanziario degli Enti locali comprende: B00010
- A) le previsioni di competenza e di cassa del primo esercizio del periodo considerato
 - B) le previsioni di competenza e di cassa di tutti gli esercizi del periodo considerato
 - C) le sole previsioni di competenza del primo esercizio del periodo considerato
 - D) le sole previsioni di competenza di tutti gli esercizi del periodo considerato
-
- 11 Ai sensi della legge 190/2012, il Piano Nazionale Anticorruzione ha durata: B00011
- A) triennale ed è aggiornato annualmente
 - B) annuale, senza alcun aggiornamento previsto per legge
 - C) quinquennale, con aggiornamenti al terzo anno di adozione
 - D) quadriennale ed è aggiornato ogni due anni
-
- 12 Secondo la legge 241/1990, il provvedimento amministrativo è annullabile: B00012
- A) qualora sia viziato da eccesso di potere
 - B) quando sia stato adottato in violazione del giudicato
 - C) quando sia viziato da un difetto assoluto di attribuzione
 - D) per mancata comunicazione dell'avvio del procedimento, anche qualora l'Amministrazione dimostri in giudizio che il contenuto del provvedimento non avrebbe potuto essere diverso da quello in concreto adottato
-
- 13 In base alla la legge 241/1990, salvo casi esplicitamente disciplinati, i termini previsti per la conclusione del procedimento: B00013
- A) possono essere sospesi, per una sola volta, per l'acquisizione di informazioni o di certificazioni relative a fatti, stati o qualità non attestati in documenti già in possesso dell'Amministrazione stessa o non direttamente acquisibili presso altre Pubbliche Amministrazioni
 - B) non possono mai essere sospesi
 - C) possono essere sospesi, per un periodo non superiore a quindici giorni, per l'acquisizione di informazioni o di certificazioni relative a fatti, stati o qualità non attestati in documenti già in possesso dell'Amministrazione stessa
 - D) possono essere sospesi, per un massimo di due volte, per l'acquisizione di informazioni o certificazioni relative a fatti, stati o qualità non attestati in documenti già in possesso dell'Amministrazione stessa o non direttamente acquisibili presso altre Pubbliche Amministrazioni per un periodo stabilito sempre a discrezione del responsabile del procedimento
-

-
- 14 **A norma della legge 241/1990, nella comunicazione di avvio del procedimento amministrativo la Pubblica Amministrazione deve indicare:** **B00014**
- A) le modalità con cui è possibile prendere visione degli atti
 - B) la documentazione prodotta dalla Pubblica Amministrazione precedente
 - C) la data entro la quale presumibilmente avrà inizio l'istruttoria
 - D) nessuna delle altre alternative è corretta
-
- 15 **Ai sensi dell'articolo 17 del Regolamento UE 679/2016 (GDPR), come viene definito "Il diritto dell'interessato di ottenere dal titolare del trattamento la cancellazione dei dati personali che lo riguardano senza ingiustificato ritardo"?** **B00015**
- A) Diritto all'oblio
 - B) Diritto di rettifica
 - C) Diritto di limitazione di trattamento
 - D) Diritto alla portabilità dei dati
-
- 16 **In base all'articolo 54 del d.lgs. 165/2001, il Codice di comportamento dei dipendenti delle Pubbliche Amministrazioni contiene anche disposizioni inerenti alla qualità dei servizi che devono essere resi ai cittadini?** **B00016**
- A) Sì, il Codice di comportamento è definito anche in relazione alle misure da adottare al fine di assicurare la qualità dei servizi ai cittadini
 - B) No, il Codice di comportamento è definito esclusivamente per stabilire regole generali di comportamento del pubblico dipendente
 - C) No, contiene esclusivamente disposizioni relative alla diligenza del pubblico dipendente
 - D) No, la materia è disciplinata altrove
-
- 17 **Secondo l'art. 5 del Codice di comportamento dei dipendenti delle Pubbliche Amministrazioni (d.P.R. 62/2013), il dipendente pubblico che aderisce a un'associazione i cui ambiti di interessi possano interferire con l'attività dell'ufficio in cui presta servizio:** **B00017**
- A) deve darne comunicazione al responsabile d'ufficio, salvo nel caso di adesione a partiti politici o sindacati
 - B) deve darne comunicazione al dirigente d'ufficio, ma solo nel caso di adesione a partiti politici o sindacati
 - C) deve darne comunicazione al Ministro della Funzione Pubblica
 - D) non è tenuto a darne comunicazione se l'attività è senza scopi di lucro
-
- 18 **Secondo l'art. 36, comma 2, del d.lgs. 165/2001 e s.m.i., le Pubbliche Amministrazioni possono avvalersi di forme contrattuali flessibili per l'assunzione dei dipendenti?** **B00018**
- A) Sì, soltanto per comprovate esigenze di carattere esclusivamente temporaneo o eccezionale
 - B) No, mai
 - C) Sì, ma nel limite del 10% della pianta organica
 - D) Sì, ma nel limite del 20% della pianta organica
-

- 19 Secondo l'art. 55-septies del d.lgs. 165/2001, nel caso di assenza per malattia, i dipendenti delle Pubbliche Amministrazioni di cui all'art. 1, comma 2, dello stesso decreto legislativo, devono:
- A) giustificare l'assenza per malattia protratta per più di dieci giorni e, in ogni caso, dopo il secondo evento di malattia nell'anno solare, esclusivamente mediante presentazione di certificazione medica rilasciata da una struttura sanitaria pubblica o da un medico convenzionato con il S.S.N.
- B) sempre giustificare l'assenza per malattia tramite certificazione medica rilasciata da struttura sanitaria pubblica
- C) giustificare l'assenza per malattia tramite certificazione medica rilasciata da struttura sanitaria pubblica solo dopo il secondo evento di malattia nell'anno solare
- D) giustificare l'assenza per malattia protratta per più di due giorni esclusivamente mediante presentazione di certificazione medica rilasciata da una struttura sanitaria pubblica o da un medico convenzionato con il S.S.N.

B00019

- 20 Ai sensi del d.lgs. 165/2001, in una Pubblica Amministrazione, ogni provvedimento disciplinare deve essere adottato previa tempestiva contestazione scritta dell'addebito al dipendente. Questa affermazione è vera?
- A) Sì, ad eccezione del rimprovero verbale
- B) No, in quanto non è necessaria contestazione scritta
- C) Sì, ad eccezione del rimprovero verbale e scritto
- D) Nessuna delle altre alternative è corretta

B00020

SCHEMA ZN 47

Ω	G	Q	•	•	Q	Δ	f	Ω	Π
f	©	#	f	G	Ω	#	Δ	#	#
#	Ω	Q	#	•	•	#	f	Ω	©
Q	©	G	Ω	Δ	G	•	Ω	#	•
G	Δ	•	©	#	Ω	©	Q	f	f
Ω	Π	Q	G	•	Q	#	©	G	#
Ω	f	f	#	Ω	#	•	Ω	©	Ω
G	©	Q	•	#	Ω	Δ	#	Q	Ω
•	Δ	G	#	f	Q	Π	©	©	f
Q	Ω	Δ	Q	G	Π	Ω	Ω	Δ	Q

- 21 Rispondere al seguente quesito facendo riferimento allo SCHEMA ZN 47
Il numero di Ω meno il numero di Q è uguale a:
- A) 5
- B) 0
- C) 3
- D) 1

B00021

- 22 Un gioco ha le seguenti regole: se un numero è divisibile per 3 vale 4 punti; se è divisibile per 4 vale 3 punti. In base a tali regole, quale dei seguenti numeri vale di più?
- A) 42
- B) 28
- C) 52
- D) 16

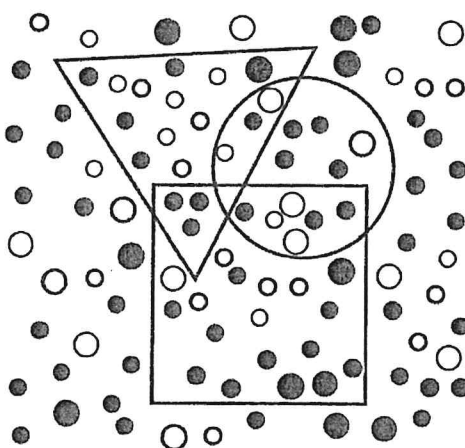
B00022

- 23 Indicare in quale delle seguenti alternative la lettera L è presente il maggior numero di volte. B00023
- A) LMLLLILLLLILLALLL
B) LILILLALILLILMLL
C) LILLALILMLLILLL
D) LMALLILMLLLLLLAL

- 24 Se la lettera U identifica una qualunque cifra (singola), la lettera A identifica una qualunque cifra (singola) pari e la lettera N identifica una qualunque cifra (singola) dispari, allora NUUA è un numero: B00024
- A) pari di quattro cifre
B) pari di due cifre
C) dispari di due cifre
D) dispari di quattro cifre

FIGURA SX 83

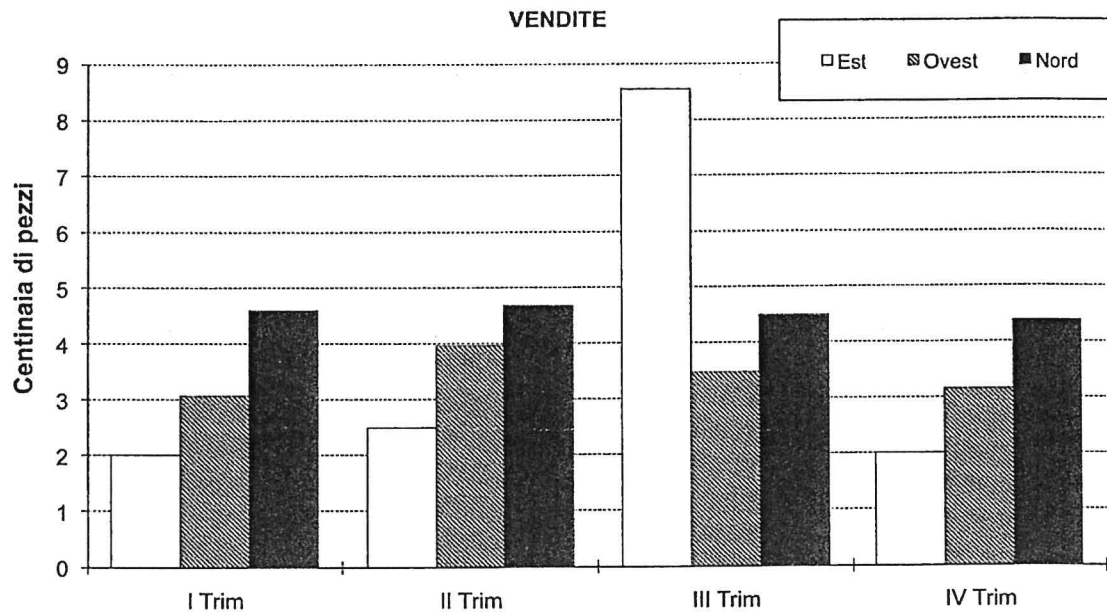
Nella figura sono rappresentate tre figure geometriche, un quadrato, un triangolo e un cerchio, che contengono dei pallini neri e bianchi.



- 25 Rispondere al seguente quesito facendo riferimento alla FIGURA SX 83 B00025
- Quanti pallini bianchi sono contenuti complessivamente nel cerchio e nel quadrato?
- A) 12
B) 11
C) 10
D) 13

GRAFICO SP 07

Il grafico riporta i dati di vendita di un prodotto da parte dei tre settori di un'azienda (Est, Ovest e Nord), nei quattro trimestri di uno stesso anno.



26 Rispondere al seguente quesito facendo riferimento al **GRAFICO SP 07**

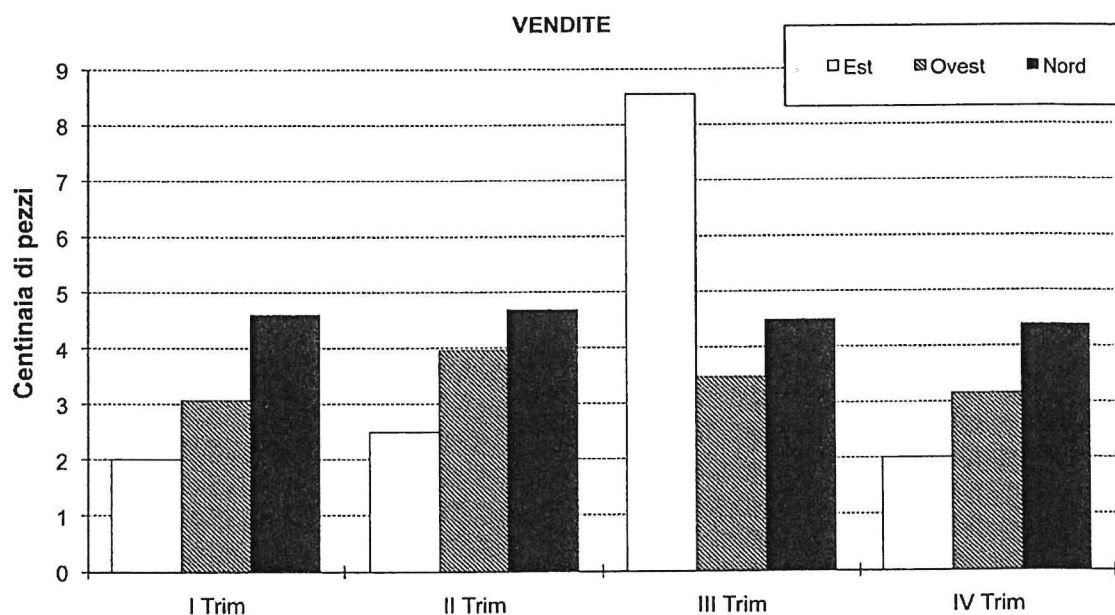
B00026

Quale settore e in quale periodo dell'anno ha subito il maggior decremento delle vendite?

- A) Il settore Est tra il terzo e il quarto trimestre
- B) Il settore Est tra il secondo e il quarto trimestre
- C) Il settore Nord tra il secondo e il terzo trimestre
- D) Il settore Ovest tra il terzo e il quarto trimestre

GRAFICO SP 07

Il grafico riporta i dati di vendita di un prodotto da parte dei tre settori di un'azienda (Est, Ovest e Nord), nei quattro trimestri di uno stesso anno.



27 Rispondere al seguente quesito facendo riferimento al **GRAFICO SP 07**

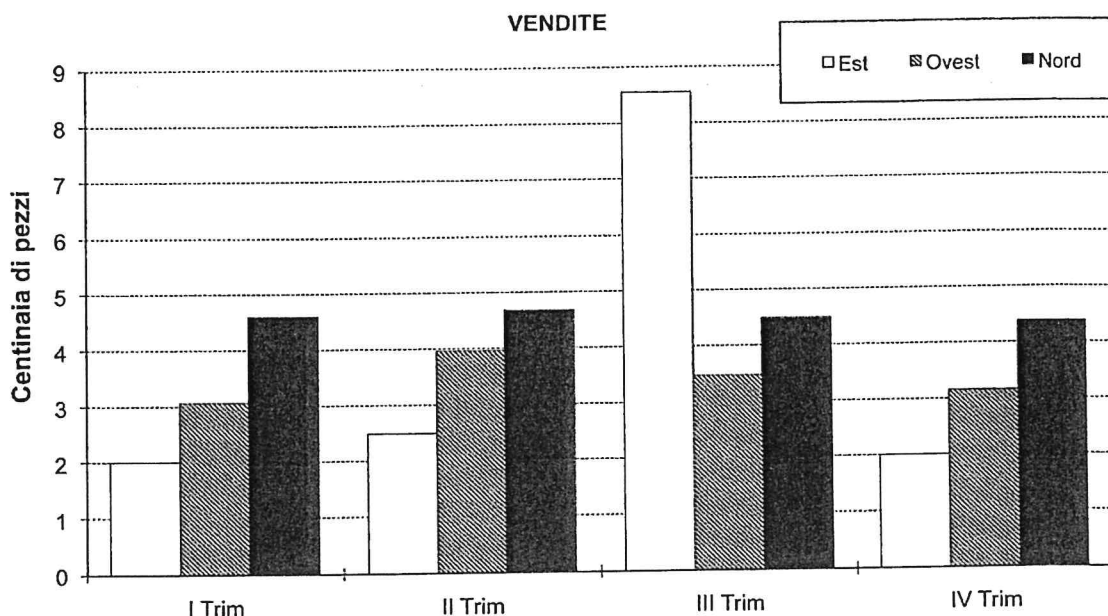
B00027

In quale trimestre i tre settori hanno globalmente venduto di più?

- A) Nel terzo trimestre
- B) Nel secondo trimestre
- C) Non è possibile calcolarlo sulla base dei dati riportati nel grafico
- D) Nel quarto trimestre

GRAFICO SP 07

Il grafico riporta i dati di vendita di un prodotto da parte dei tre settori di un'azienda (Est, Ovest e Nord), nei quattro trimestri di uno stesso anno.



28 Rispondere al seguente quesito facendo riferimento al **GRAFICO SP 07**

B00028

Qual è stato l'incremento percentuale delle vendite del settore Est fra il primo e il secondo trimestre?

- A) 25% circa
- B) 75% circa
- C) 10% circa
- D) 50% circa

29 Rispondere al seguente quesito facendo riferimento al **BRANO AA 62**

B00029

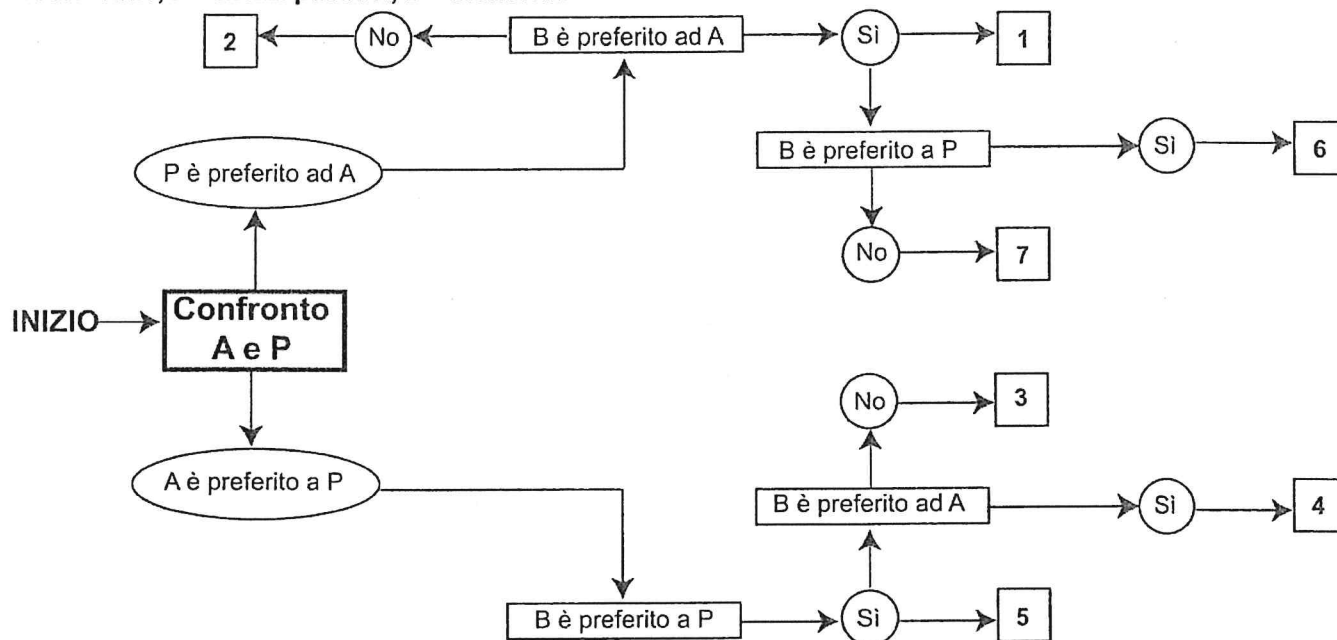
Si può dedurre con certezza che entrando nel corridoio per accedere alla palestra:

- A) l'armadietto di Massimo è l'ultimo sulla sinistra
- B) Carlo possiede il primo armadietto sulla destra
- C) Daniele possiede il primo armadietto sulla sinistra
- D) Nicola possiede l'ultimo armadietto sulla destra

DIAGRAMMA SZ 13

Un'indagine di mercato indaga sulle abitudini degli italiani per raggiungere il posto di lavoro. Il confronto avviene valutando a due a due tre mezzi di trasporto, giudicandone sempre uno come preferito all'altro e mai due come ugualmente preferiti. L'obiettivo quindi è stabilire un ordine di preferenza.

A = automobile, P = mezzi pubblici, B = bicicletta.



30 Rispondere al seguente quesito facendo riferimento al **DIAGRAMMA SZ 13**

B00030

Indicare l'ordine di preferenza risultante alla casella "7" del diagramma.

- A) PBA
- B) PAB
- C) BAP
- D) ABP

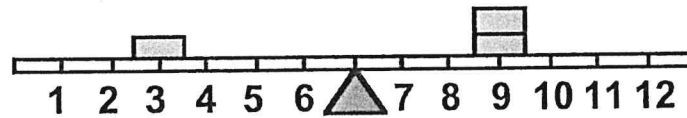
31 Anna ha età doppia di quella che Michele avrà quando Valentina avrà l'età che Anna ha oggi. Quale tra le seguenti alternative ordina i tre soggetti partendo dal più anziano al più giovane?

B00031

- A) Anna, Valentina, Michele
- B) Valentina, Michele, Anna
- C) Anna, Michele, Valentina
- D) Michele, Anna, Valentina

FIGURA ST 98

Un'asse graduata di legno è appoggiata su un perno nel suo punto medio e su di essa sono sistemati alcuni gettoni, tutti di peso uguale.



-
- 32 Rispondere al seguente quesito facendo riferimento alla FIGURA ST 98 B00032
 Per equilibrare il sistema in figura è necessario spostare un gettone:
 A) dalla posizione 3 alla posizione 1
 B) dalla posizione 9 alla posizione 8
 C) dalla posizione 9 alla posizione 10
 D) dalla posizione 3 alla posizione 4
-
- 33 Il signor Rossi ha compiuto i $\frac{2}{7}$ della sua passeggiata. Se ha camminato per 2 km, quanti chilometri è lunga l'intera passeggiata? B00033
 A) 7 km
 B) 14 km
 C) 28 km
 D) 9 km
-
- 34 In un gruppo di 68 persone si trovano 51 laureati. Quale percentuale di persone del gruppo è costituita da NON laureati? B00034
 A) 25%
 B) 75%
 C) 15%
 D) 50%
-
- 35 Da un sacchetto contenente 40 palline bianche, 50 nere e 70 rosse, tutte uguali per peso e grandezza, si estrae una pallina a caso. La probabilità che la pallina estratta NON sia né bianca né nera è: B00035
 A) $\frac{7}{16}$
 B) $\frac{4}{9}$
 C) $\frac{1}{4}$
 D) $\frac{8}{21}$
-
- 36 In un torneo di tennis la classifica dal 1° al 7° posto è la seguente: Gaia, Fausto, Ilaria, Aldo, Beatrice, Claudio, Enrico. Cinque di questi sette ragazzi non sono mancini e si sa che a non essere mancini sono tre tra i primi quattro classificati e tre tra gli ultimi quattro classificati. Si può essere certi che a non essere mancino è: B00036
 A) Aldo
 B) Enrico
 C) Fausto
 D) Ilaria
-

-
- 37 Quali, tra i termini proposti, completano correttamente la seguente proporzione? B00037
Operoso : attivo = X : Y
A) X = insipido; Y = insapore
B) X = pigro; Y = mobile
C) X = dolce; Y = zucchero
D) X = facile; Y = difficile
-
- 38 "È necessario saper parlare l'inglese molto bene per poter lavorare nell'azienda X". Se la precedente affermazione è vera, allora quale tra le seguenti è sicuramente vera? B00038
A) Se Ivo parla male l'inglese, allora non può lavorare nell'azienda X
B) Se Ivo non lavora nell'azienda X, allora parla male l'inglese
C) Se Ivo parla bene l'inglese, allora lavora nell'azienda X
D) Se Ivo lavora nell'azienda X, non si può sapere come parli l'inglese
-
- 39 "Tutti gli scultori sono persone sensibili; Aldo è uno scultore". In base alle precedenti informazioni, quale delle seguenti affermazioni è necessariamente vera? B00039
A) Aldo è una persona sensibile
B) Aldo non è una persona sensibile
C) Tutti gli uomini sensibili sono scultori
D) Nessuna delle altre alternative è corretta
-
- 40 "Enrica invita Loredana a cena se e solo se Loredana è disposta a cucinare". Se la precedente affermazione è vera, allora NON si può concludere che: B00040
A) se Enrica non cucina, Loredana non va a cena da lei
B) se Loredana non è disposta a cucinare, allora Enrica non la invita a cena
C) solo se Loredana non è disposta a cucinare, allora Enrica non la invita a cena
D) Enrica non invita Loredana, se Loredana non è disposta a cucinare
-
- 41 Dopo aver illustrato le fasi della spesa, il/la candidato/a rediga una determinazione di impegno di spesa per l'acquisto di materiale di cancelleria da fornire agli uffici comunali per un importo di € 5.000 oltre IVA. B00041