



COMUNE DI SESTO SAN GIOVANNI

**Selezione pubblica per la copertura a tempo pieno e
indeterminato di n. 1 posto di Esperto Amministrativo
Contabile - Area degli Istruttori.**

PROVA 03

PROVA ESTRATTA

-
- 1 **Ai sensi dell'art. 149, comma 4, del d.lgs. 267/2000, quale, tra i seguenti elementi, NON viene elencato come parte della finanza dei Comuni e delle Province?** C00001
- A) Trasferimenti europei
 - B) Tasse e diritti per servizi pubblici
 - C) Trasferimenti regionali
 - D) Imposte proprie
-
- 2 **Ai sensi dell'art. 184 del d.lgs. 267/2000, la fase della spesa nella quale l'Amministrazione accerta il diritto acquisito del creditore e la somma certa e liquida da corrispondere, è definita:** C00002
- A) liquidazione
 - B) impegno
 - C) ordinazione
 - D) pagamento
-
- 3 **Ai sensi dell'art. 190 d.lgs. 267/2000, nell'ambito della gestione del bilancio pubblico, cosa rappresentano i residui passivi?** C00003
- A) Le somme impegnate e non pagate entro il termine dell'esercizio
 - B) La differenza tra le spese di previsione e le spese di competenza
 - C) Le spese liquidate entro il termine dell'esercizio ma non impegnate
 - D) La differenza tra le spese correnti e le spese in conto capitale
-
- 4 **Ai sensi dell'art. 165 del d.lgs. 267/2000, le previsioni di spesa del bilancio di previsione sono classificate in:** C00004
- A) missioni e programmi
 - B) articoli e obiettivi
 - C) capitoli e funzioni
 - D) titoli e cespiti
-
- 5 **A norma del d.lgs. 267/2000, come sono articolate le entrate PEG?** C00005
- A) In titoli, tipologie, categorie, capitoli, ed eventualmente in articoli, secondo il rispettivo oggetto
 - B) In titoli, categorie, capitoli, mai in articoli
 - C) Solamente in tipologie, capitoli e categorie
 - D) In articoli, classi, sezioni, ed eventualmente in titoli
-
- 6 **Ai sensi dell'art. 151, comma 8, del d.lgs. 267/2000, l'Ente approva il bilancio consolidato con i bilanci dei propri organismi e enti strumentali e delle società controllate e partecipate entro il:** C00006
- A) 30 settembre
 - B) 30 ottobre
 - C) 30 gennaio
 - D) 30 aprile
-
- 7 **In base al d.lgs. 267/2000, art. 175, le variazioni al bilancio degli Enti locali, salvo determinate eccezioni, sono di competenza:** C00007
- A) dall'organo consiliare
 - B) dall'organo esecutivo
 - C) dell'organo di presidenza
 - D) dall'organo di controllo interno
-

-
- 8 In base al d.lgs. 267/2000, art. 181, la fase del procedimento dell'entrata che consiste nel trasferimento delle somme riscosse nelle casse dell'ente è: C00008
- A) il versamento
 - B) l'accertamento
 - C) la riscossione
 - D) l'obbligazione
-
- 9 Il Documento Unico di Programmazione, a norma dell'art. 170 del d.lgs. 267/2000, si compone delle seguenti sezioni: C00009
- A) Sezione strategica e Sezione operativa
 - B) Sezione strategica, Sezione operativa e Sezione contabile
 - C) Sezione strategica e Sezione finanziaria
 - D) Sezione contabile e Sezione finanziaria
-
- 10 Ai sensi dell'art. 162 del d.lgs. 267/2000 gli Enti locali devono deliberare annualmente il bilancio di previsione finanziario con riferimento ad almeno: C00010
- A) un triennio
 - B) un biennio
 - C) un quadriennio
 - D) un quinquennio
-
- 11 Ai sensi della legge 190/2012, il Piano Nazionale Anticorruzione ha durata: C00011
- A) triennale ed è aggiornato annualmente
 - B) annuale, senza alcun aggiornamento previsto per legge
 - C) quinquennale, con aggiornamenti al terzo anno di adozione
 - D) quadriennale ed è aggiornato ogni due anni
-
- 12 Secondo la legge 241/1990, il provvedimento amministrativo è annullabile: C00012
- A) qualora sia viziato da eccesso di potere
 - B) quando sia stato adottato in violazione del giudicato
 - C) quando sia viziato da un difetto assoluto di attribuzione
 - D) per mancata comunicazione dell'avvio del procedimento, anche qualora l'Amministrazione dimostri in giudizio che il contenuto del provvedimento non avrebbe potuto essere diverso da quello in concreto adottato
-
- 13 In base alla la legge 241/1990, salvo casi esplicitamente disciplinati, i termini previsti per la conclusione del procedimento: C00013
- A) possono essere sospesi, per una sola volta, per l'acquisizione di informazioni o di certificazioni relative a fatti, stati o qualità non attestati in documenti già in possesso dell'Amministrazione stessa o non direttamente acquisibili presso altre Pubbliche Amministrazioni
 - B) non possono mai essere sospesi
 - C) possono essere sospesi, per un periodo non superiore a quindici giorni, per l'acquisizione di informazioni o di certificazioni relative a fatti, stati o qualità non attestati in documenti già in possesso dell'Amministrazione stessa
 - D) possono essere sospesi, per un massimo di due volte, per l'acquisizione di informazioni o certificazioni relative a fatti, stati o qualità non attestati in documenti già in possesso dell'Amministrazione stessa o non direttamente acquisibili presso altre Pubbliche Amministrazioni per un periodo stabilito sempre a discrezione del responsabile del procedimento
-

-
- 14 **A norma della legge 241/1990, nella comunicazione di avvio del procedimento amministrativo la Pubblica Amministrazione deve indicare:** C00014
- A) le modalità con cui è possibile prendere visione degli atti
 - B) la documentazione prodotta dalla Pubblica Amministrazione procedente
 - C) la data entro la quale presumibilmente avrà inizio l'istruttoria
 - D) nessuna delle altre alternative è corretta
-
- 15 **Ai sensi dell'articolo 17 del Regolamento UE 679/2016 (GDPR), come viene definito "Il diritto dell'interessato di ottenere dal titolare del trattamento la cancellazione dei dati personali che lo riguardano senza ingiustificato ritardo"?** C00015
- A) Diritto all'oblio
 - B) Diritto di rettifica
 - C) Diritto di limitazione di trattamento
 - D) Diritto alla portabilità dei dati
-
- 16 **Secondo l'art. 5 del Codice di comportamento dei dipendenti delle Pubbliche Amministrazioni (d.P.R. 62/2013), il dipendente pubblico:** C00016
- A) non è tenuto a comunicare la sua adesione a un partito politico
 - B) è obbligato a comunicare la sua adesione a un partito politico
 - C) è tenuto a comunicare la sua adesione a un partito politico, solo se gli interessi del partito siano coinvolti nell'attività dell'ufficio
 - D) è obbligato a comunicare la sua adesione a un partito politico, solo se si tratta di un gruppo politico extraparlamentare
-
- 17 **Secondo il d.lgs. 165/2001, la sanzione disciplinare del licenziamento si applica anche nel caso di giustificazione dell'assenza dal servizio mediante una certificazione medica falsa?** C00017
- A) Sì, si applica
 - B) No, il decreto non lo prevede
 - C) Sì, ma solo in alcuni casi espressamente stabiliti nel decreto
 - D) No, in questo caso è prevista una sanzione disciplinare conservativa
-
- 18 **Secondo il d.lgs. 165/2001, nel caso in cui un dipendente pubblico raggiunga il periodo massimo di collocamento in disponibilità, qual è l'alternativa alla risoluzione del rapporto di lavoro?** C00018
- A) La ricollocazione dell'interessato presso un'altra Amministrazione
 - B) Nessuna, in quanto la risoluzione è automatica
 - C) Solo il trasferimento del dipendente interessato in Amministrazioni Pubbliche simili ubicate in altre aree metropolitane
 - D) La sospensione a tempo indeterminato del rapporto di lavoro con il dipendente
-
- 19 **Ai sensi dell'art. 54 del d.lgs. 165/2001 e s.m.i., la violazione dei doveri contenuti nel Codice di comportamento dei pubblici dipendenti è rilevante ai fini:** C00019
- A) della responsabilità civile, amministrativa e contabile ogniqualvolta le stesse responsabilità siano collegate alla violazione di doveri, obblighi, leggi o regolamenti
 - B) della sola responsabilità amministrativa ogniqualvolta la stessa responsabilità sia collegata alla violazione di doveri, obblighi, leggi o regolamenti
 - C) della sola responsabilità civile ogniqualvolta la stessa responsabilità sia collegata alla violazione di doveri, obblighi, leggi o regolamenti
 - D) della sola responsabilità disciplinare ogniqualvolta la stessa responsabilità sia collegata alla violazione di doveri, obblighi, leggi o regolamenti
-

- 20 In base al d.P.R. 62/2013, il pubblico dipendente, qualora venga a conoscenza di situazioni di illecito nell'Amministrazione: C00020
- A) ha l'obbligo di denuncia all'autorità giudiziaria e di segnalazione al proprio superiore gerarchico
- B) ha l'obbligo di denuncia all'autorità giudiziaria, ma non quello di segnalazione al proprio superiore gerarchico
- C) ha l'obbligo di segnalazione al proprio superiore gerarchico, ma non quello di denuncia all'autorità giudiziaria
- D) deve scegliere tra la denuncia all'autorità giudiziaria e la segnalazione al proprio superiore gerarchico

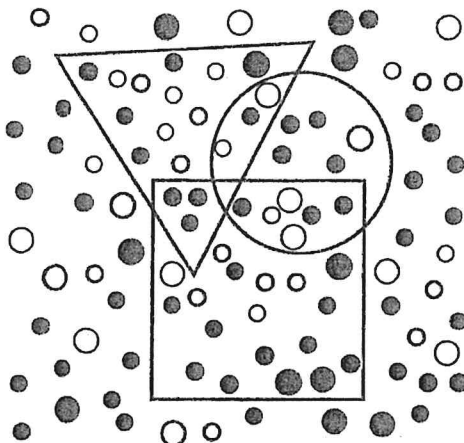
SCHEMA ZN 47

Ω	G	Q	•	•	Q	Δ	f	Ω	Π
f	©	#	f	G	Ω	#	Δ	#	#
#	Ω	Q	#	•	•	#	f	Ω	©
Q	©	G	Ω	Δ	G	•	Ω	#	•
G	Δ	•	©	#	Ω	©	Q	f	f
Ω	Π	Q	G	•	Q	#	©	G	#
Ω	f	f	#	Ω	#	•	Ω	©	Ω
G	©	Q	•	#	Ω	Δ	#	Q	Ω
•	Δ	G	#	f	Q	Π	©	©	f
Q	Ω	Δ	Q	G	Π	Ω	Ω	Δ	Q

- 21 Rispondere al seguente quesito facendo riferimento allo SCHEMA ZN 47 C00021
Il numero di Ω meno il numero di Q è uguale a:
- A) 5
- B) 0
- C) 3
- D) 1
-
- 22 Un gioco ha le seguenti regole: se un numero è divisibile per 3 vale 4 punti; se è divisibile per 4 vale 3 punti. In base a tali regole, quale dei seguenti numeri vale di più? C00022
- A) 42
- B) 28
- C) 52
- D) 16
-
- 23 Indicare in quale delle seguenti alternative la lettera L è presente il maggior numero di volte. C00023
- A) LMLLLILLLLILLALLL
- B) LILILLALILLILMMLL
- C) LILLALILMLLILLLL
- D) LMALLILMLLLLLLAL
-
- 24 Se la lettera U identifica una qualunque cifra (singola), la lettera A identifica una qualunque cifra (singola) pari e la lettera N identifica una qualunque cifra (singola) dispari, allora NUUA è un numero: C00024
- A) pari di quattro cifre
- B) pari di due cifre
- C) dispari di due cifre
- D) dispari di quattro cifre

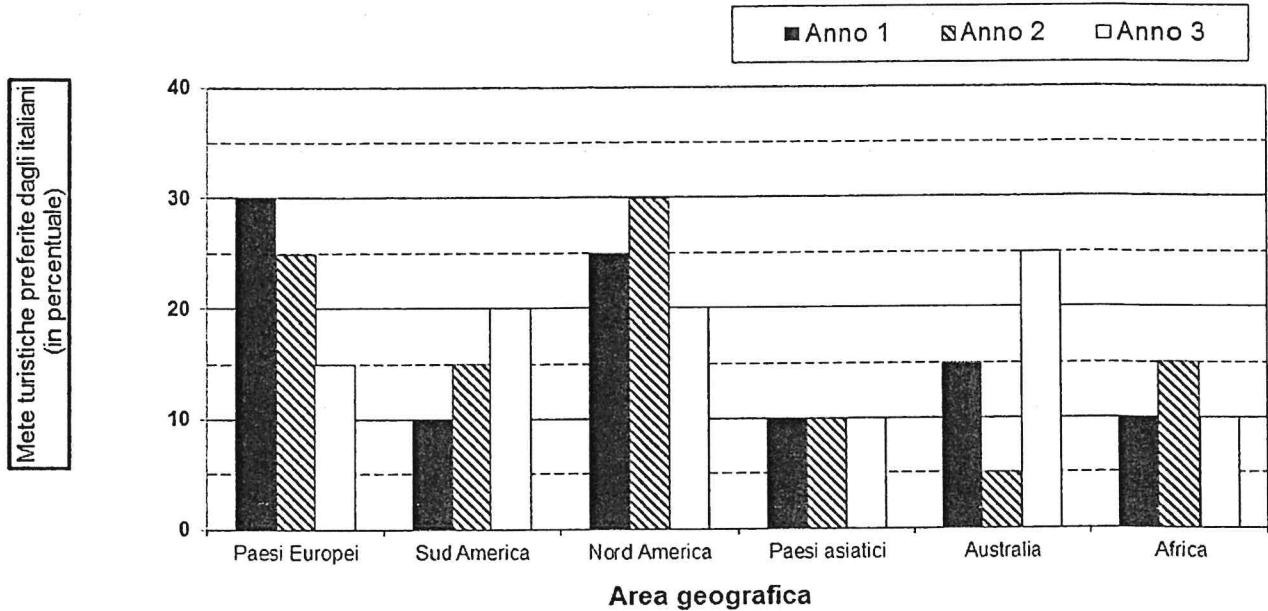
FIGURA SX 83

Nella figura sono rappresentate tre figure geometriche, un quadrato, un triangolo e un cerchio, che contengono dei pallini neri e bianchi.



-
- 25 Rispondere al seguente quesito facendo riferimento alla FIGURA SX 83 C00025
Quanti pallini bianchi sono contenuti complessivamente nel cerchio e nel quadrato?
A) 12
B) 11
C) 10
D) 13
-
- 26 Rispondere al seguente quesito facendo riferimento al BRANO GG 47 C00026
Chi è il più vicino al guidatore?
A) Luca
B) Giacomo
C) Fabio
D) Marco

GRAFICO SZ 25

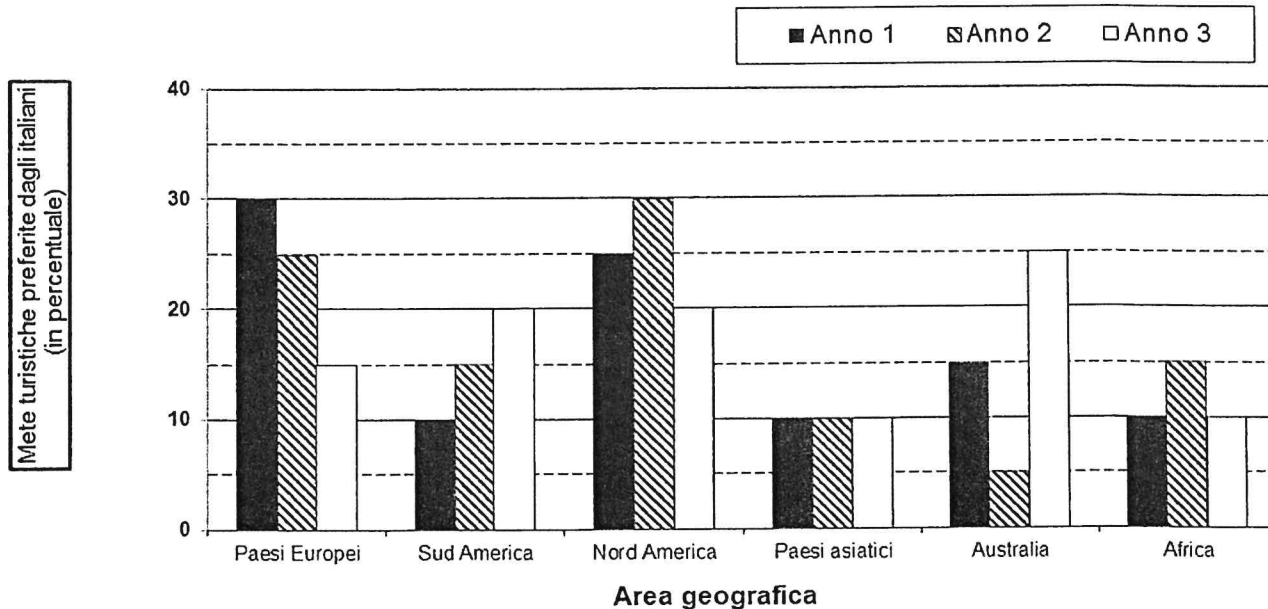


27 Rispondere al seguente quesito facendo riferimento al **GRAFICO SZ 25** C00027

In quale delle aree geografiche vi è stato un costante incremento percentuale del turismo nel triennio considerato?

- A) Sud America
- B) Paesi asiatici
- C) Paesi europei
- D) Africa

GRAFICO SZ 25

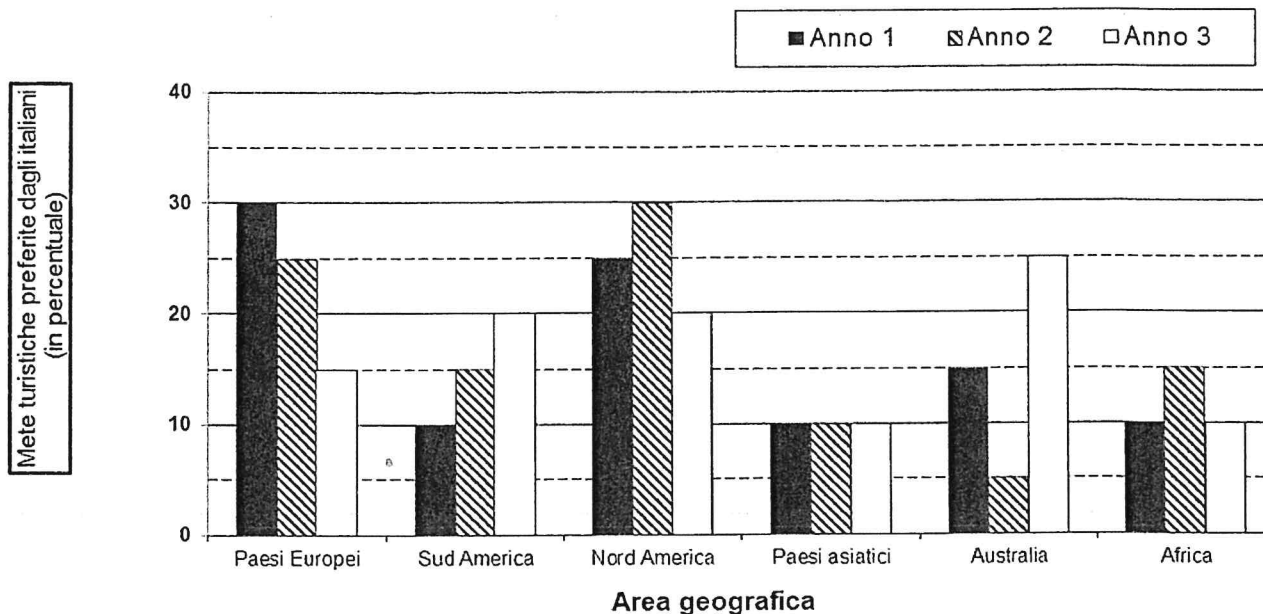


28 Rispondere al seguente quesito facendo riferimento al **GRAFICO SZ 25** C00028

Quale delle seguenti affermazioni è corretta sulla base dei dati riportati nel grafico?

- A) Tra l'Anno 2 e l'Anno 3 il maggior incremento di preferenze si è verificato per l'Australia
- B) Il livello di gradimento degli italiani per il Nord America è cresciuto nell'ultimo triennio
- C) Nell'Anno 2 i Paesi asiatici sono stati la meta turistica meno gradita dagli italiani
- D) Nell'Anno 2 gli italiani hanno espresso un'uguale preferenza per il Sud America, per l'Africa e per i Paesi europei

GRAFICO SZ 25



29 Rispondere al seguente quesito facendo riferimento al GRAFICO SZ 25

C00029

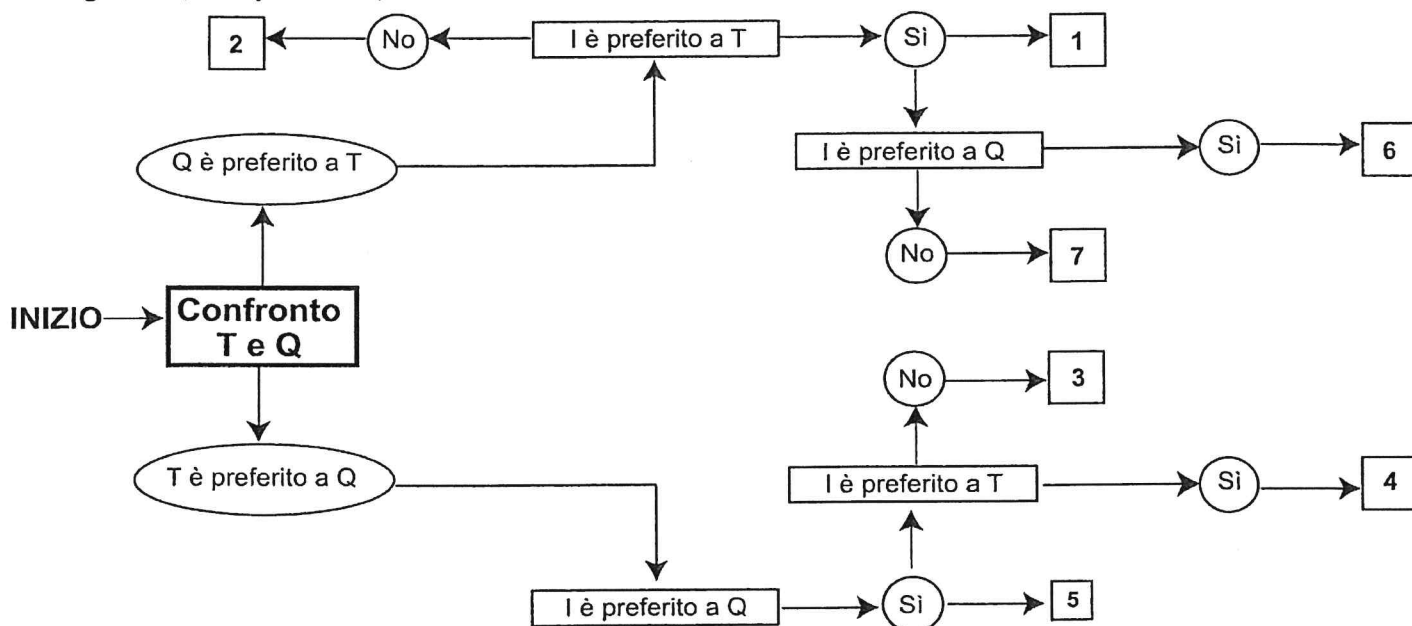
Che cosa esprime il grafico?

- A) Il livello di preferenza espresso dagli italiani verso le mete turistiche straniere
- B) La percentuale di italiani che sono andati in vacanza nell'ultimo triennio
- C) Il numero di turisti stranieri che hanno visitato l'Italia
- D) La percentuale di emigrati italiani per Paese di destinazione

DIAGRAMMA SZ 14

Una società sottopone ai propri dipendenti un test per conoscere le loro abitudini. Una domanda verte su quale sia il canale seguito per conoscere le notizie. La classifica avviene valutando a due a due tre mezzi di comunicazione, giudicandone sempre uno come preferito all'altro e mai due come ugualmente preferiti. L'obiettivo quindi è stabilire un ordine di preferenza generale tra i dipendenti.

T = telegiornale, Q = quotidiano, I = Internet.



30 Rispondere al seguente quesito facendo riferimento al DIAGRAMMA SZ 14

C00030

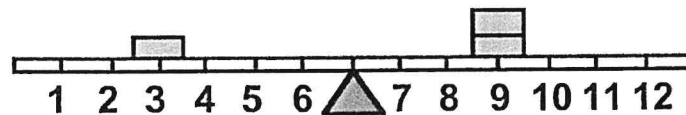
Indicare l'ordine di preferenza risultante alla casella "3" del diagramma.

- A) TIQ
- B) IQT
- C) È possibile più di un ordine
- D) Non è possibile stabilire alcun ordine

- 31 Anna ha età doppia di quella che Michele avrà quando Valentina avrà l'età che Anna ha oggi. Quale tra le seguenti alternative ordina i tre soggetti partendo dal più anziano al più giovane? C00031
- A) Anna, Valentina, Michele
 B) Valentina, Michele, Anna
 C) Anna, Michele, Valentina
 D) Michele, Anna, Valentina

FIGURA ST 98

Un'asse graduata di legno è appoggiata su un perno nel suo punto medio e su di essa sono sistemati alcuni gettoni, tutti di peso uguale.



- 32 Rispondere al seguente quesito facendo riferimento alla FIGURA ST 98 C00032
 Per equilibrare il sistema in figura è necessario spostare un gettone:
- A) dalla posizione 3 alla posizione 1
 B) dalla posizione 9 alla posizione 8
 C) dalla posizione 9 alla posizione 10
 D) dalla posizione 3 alla posizione 4
- 33 Il signor Rossi ha compiuto i $\frac{2}{7}$ della sua passeggiata. Se ha camminato per 2 km, quanti chilometri è lunga l'intera passeggiata? C00033
- A) 7 km
 B) 14 km
 C) 28 km
 D) 9 km
- 34 In un gruppo di 68 persone si trovano 51 laureati. Quale percentuale di persone del gruppo è costituita da NON laureati? C00034
- A) 25%
 B) 75%
 C) 15%
 D) 50%
- 35 Da un sacchetto contenente 40 palline bianche, 50 nere e 70 rosse, tutte uguali per peso e grandezza, si estrae una pallina a caso. La probabilità che la pallina estratta NON sia né bianca né nera è: C00035
- A) $\frac{7}{16}$
 B) $\frac{4}{9}$
 C) $\frac{1}{4}$
 D) $\frac{8}{21}$

-
- 36 Cinque treni, A, B, C, D ed E, partono dalla stessa stazione diretti in cinque città differenti. Si sa che: I) C è più veloce di B ma arriva dopo di questo che è, invece, il primo ad arrivare; II) A è l'ultimo ad arrivare anche se è più veloce di D e meno veloce di B; III) E, il secondo treno ad arrivare a destinazione, è più veloce di D, ma meno veloce di A. In base alle precedenti informazioni il treno più veloce è:
- A) il treno C
 - B) il treno E
 - C) il treno A
 - D) il treno B
-
- 37 Quali, tra i termini proposti, completano correttamente la seguente proporzione verbale? **Municipio : sindaco = X : Y**
- A) X = piscina; Y = bagnino
 - B) X = muro; Y = uomo
 - C) X = Presidente della Repubblica; Y = Quirinale
 - D) X = nuoto; Y = istruttore
-
- 38 "Se e solo se la frutta viene coltivata intensivamente, il reddito medio dei contadini aumenterà significativamente". In base alla precedente affermazione, è necessariamente vero che:
- A) se la frutta non viene coltivata intensivamente, il reddito medio dei contadini non aumenterà significativamente
 - B) per aumentare significativamente il reddito medio dei contadini, occorre coltivare intensivamente la frutta di stagione
 - C) anche se la frutta viene coltivata intensivamente, il reddito medio dei contadini potrebbe non aumentare significativamente
 - D) se la frutta viene coltivata non intensivamente, il reddito medio dei contadini si ridurrà significativamente
-
- 39 "Gli italiani sono uomini. Gli uomini non possono essere filosofi". In base alle precedenti informazioni, quale delle seguenti affermazioni è certamente vera?
- A) Gli italiani non possono essere filosofi
 - B) I filosofi possono essere italiani
 - C) Alcuni italiani sono filosofi
 - D) Alcuni filosofi sono italiani
-
- 40 "Il castello di carte cadrà se e solo se soffierà il vento". In base alla precedente affermazione, quale delle seguenti NON è necessariamente vera?
- A) Anche se il vento soffierà, il castello di carte potrà non cadere
 - B) Il castello di carte non cadrà se non soffierà il vento
 - C) Se il castello di carte non cadrà, vuol dire che non avrà soffiato il vento
 - D) È sufficiente che soffi il vento perché il castello di carte cada
-
- 41 II/La candidato/a illustri il sistema dei controlli interni ed esterni negli enti locali, soffermandosi in particolare sul controllo di regolarità amministrativa e contabile.
-